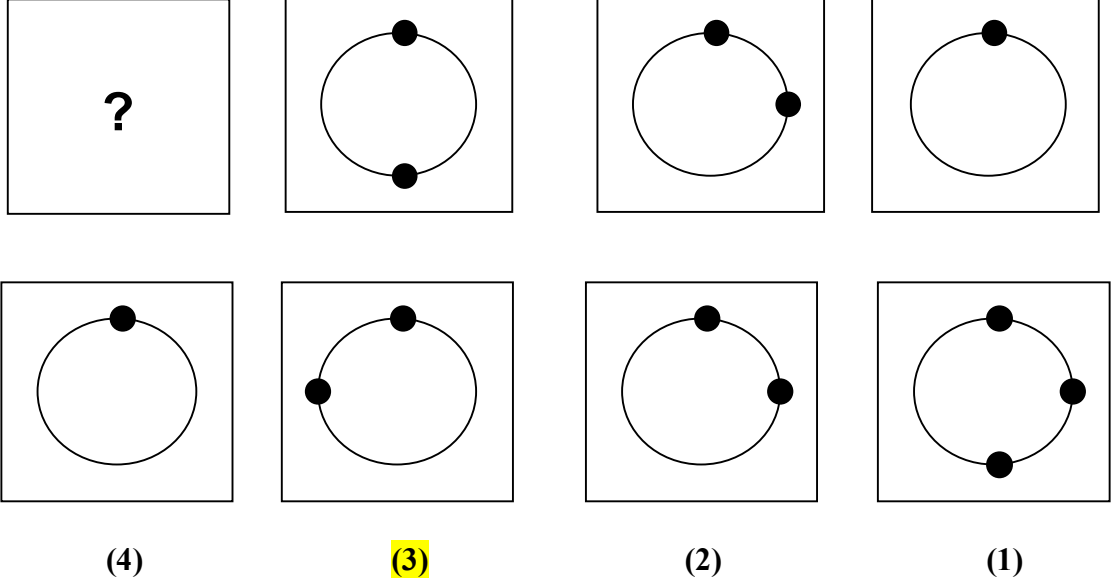


اختبار التحليل الفراغي

- يفحص هذا الاختبار القدرة على التفكير الفراغي و القدرة على فهم الاختلافات او التشابهات بين الأشكال.
- ستجيب سؤال في هذه الكراسة. تم بناء هذه الأسئلة بناء على نمطية معينة تدور حول القدرة على إيجاد الترابطات بين الأشكال و القدرة على إكمال الأشكال الناقصة. ستجد تاليا مثال يوضح لك هذه النمطية.

مثال: ما هو الشكل الناقص و الذي يجب أن يحل مكان علامة الاستفهام؟


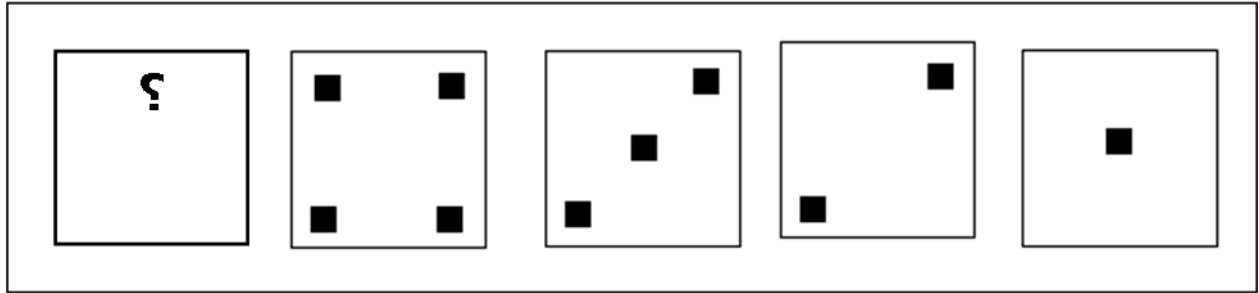


الإجابة الصحيحة هي الشكل الرقم (3) و السبب يعود الى أن هذا الشكل هو الشكل الوحيد الذي يتماشى مع الأشكال الثلاثة السابقة، فإذا قمت بتثبيت النقطة الموجودة في الأعلى فسوف تجد أن النقطة الثانية تسير مع عقارب الساعة و بالتالي الشكل الوحيد الذي ينطبق على هذه القاعدة هو الشكل رقم (3).


- إذاً، لكل سؤال من الأسئلة التالية قاعدة معينة عليك اكتشافها لاختيار الحل الصحيح.
- إذا لم تستطع إيجاد الحل الصحيح فقم بتخمين الإجابة لا تترك الإجابات فارغة بل قم بحل أكبر عدد ممكن من الأسئلة ضمن الوقت المحدد.

اجب على الأسئلة التالية

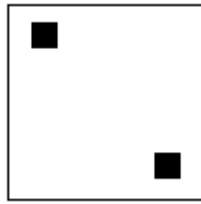
(1) ما هو الشكل الذي يجب أن يحل مكان علامة الاستفهام في متتالية الأشكال التالية:



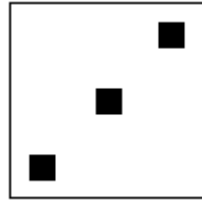
(5)




(4)



(3)

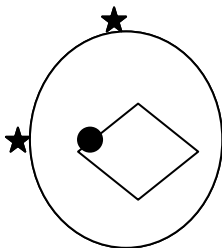
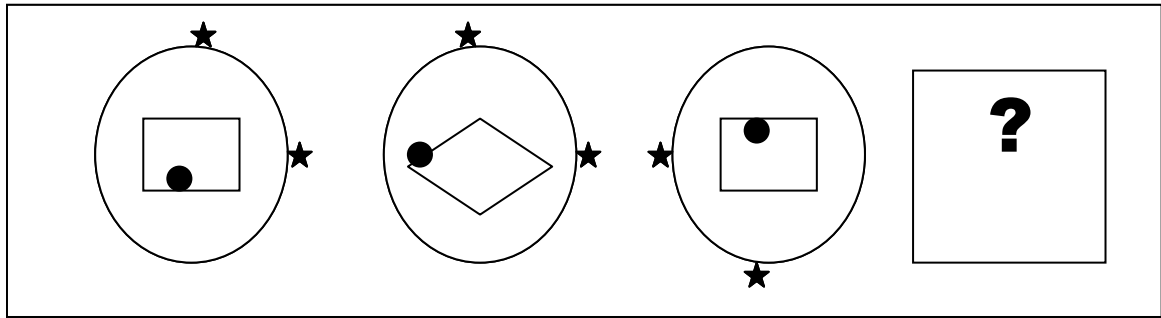


(2)

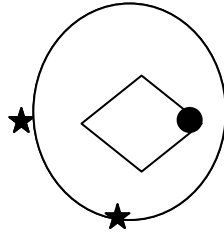


(1)

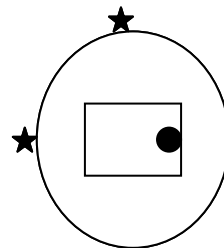
(2) ما هو الشكل الناقص الذي يجب أن يحل مكان علامة الاستفهام في متتالية الأشكال التالية:



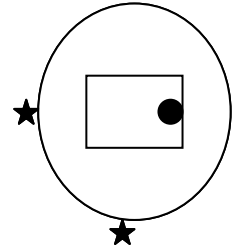
(4)



(3)

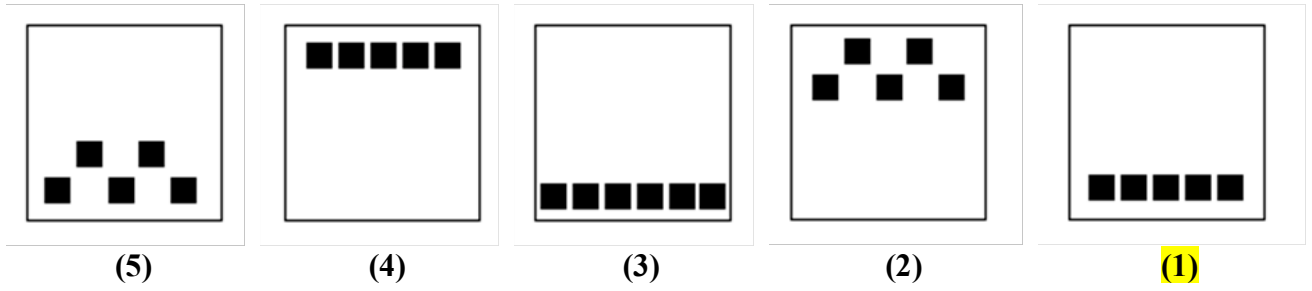
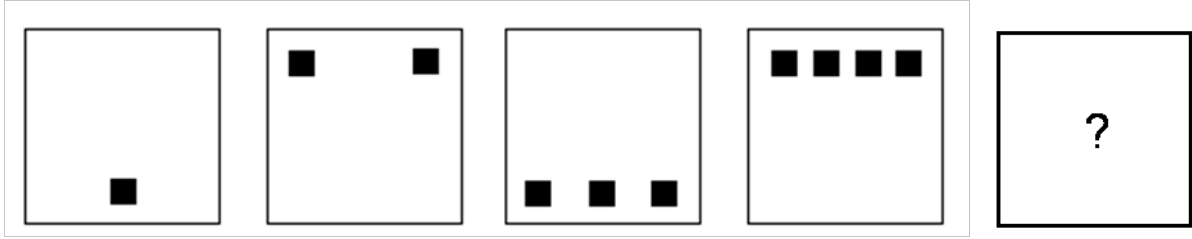


(2)

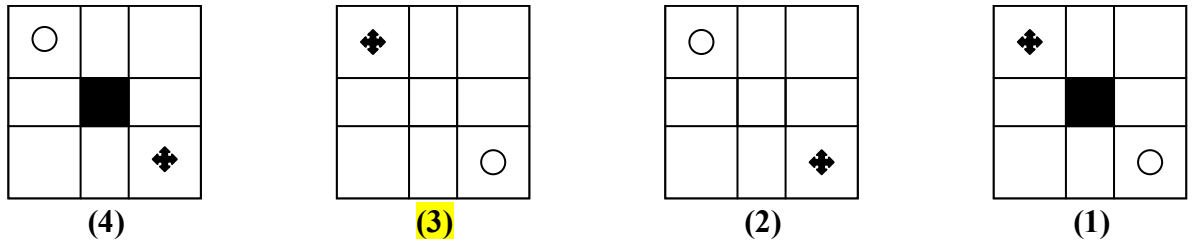
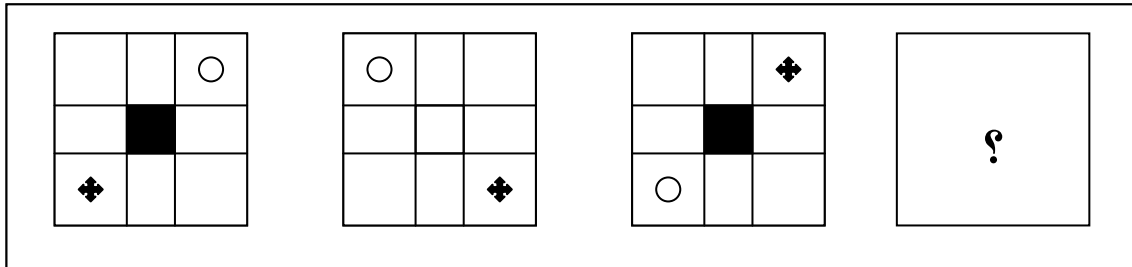


(1)

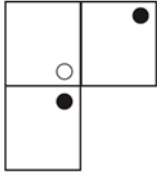
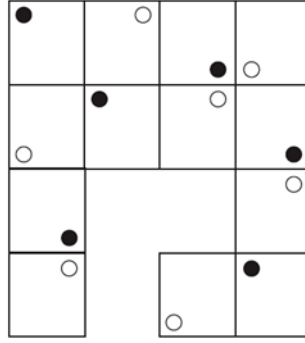
(3) ما هو الشكل الذي يجب أن يحل مكان علامة الاستفهام في متتالية الأشكال التالية:



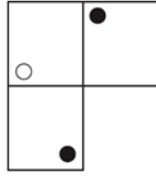
(4) ما هو الشكل الناقص و الذي يجب أن يحل مكان علامة الاستفهام في متتالية الأشكال التالية:



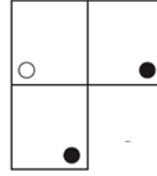
(5) ما هو الجزء الناقص في هذا الشكل؟



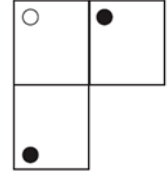
(4)



(3)

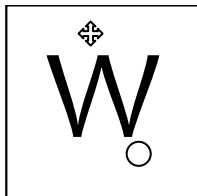
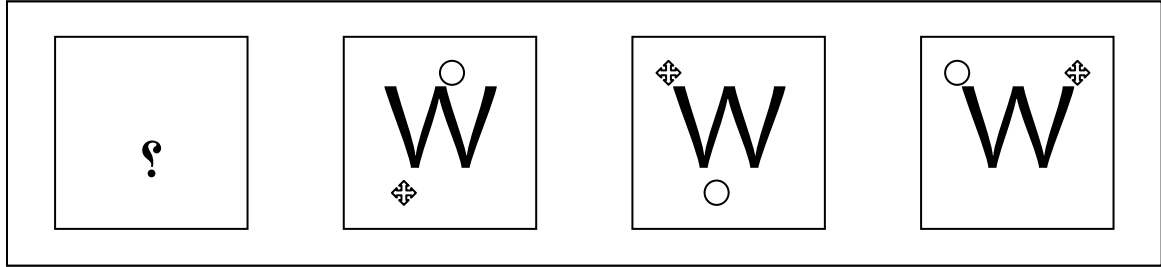


(2)

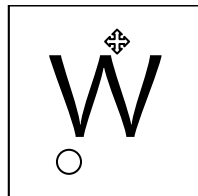


(1)

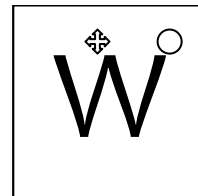
(6) ما هو الشكل الناقص الذي يجب أن يحل مكان علامة الاستفهام في متتالية الأشكال التالية:



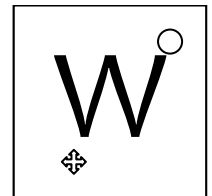
(4)



(3)

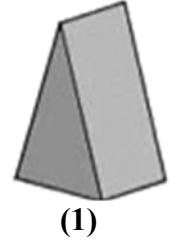
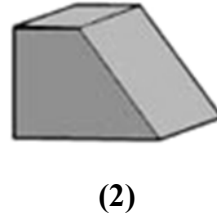
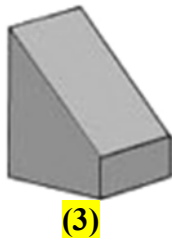
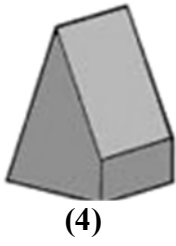
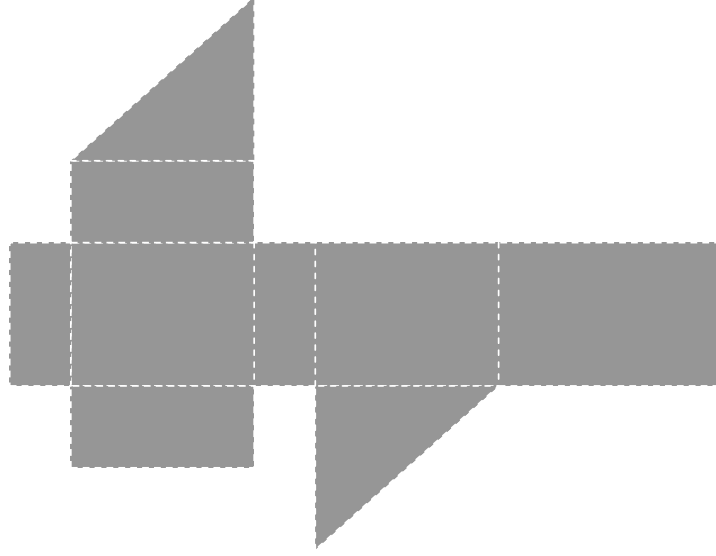


(2)

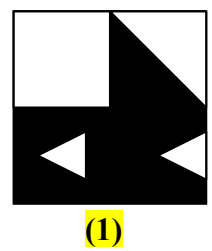
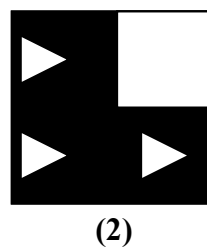
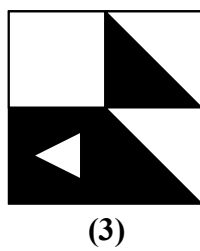

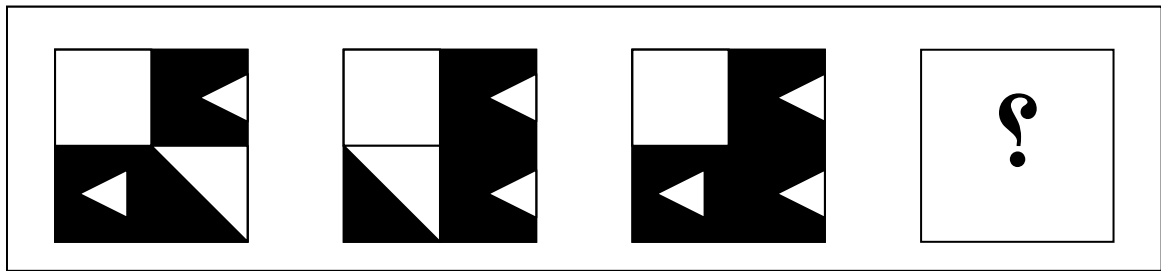


(1)

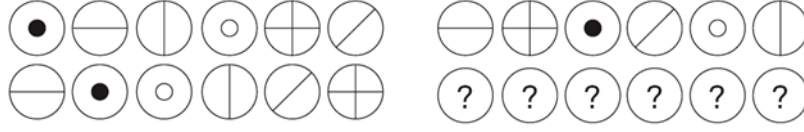
(7) ما هو الشكل الذي سينتج إذا تم طي الورقة التالية ؟



(8) ما هو الشكل الناقص الذي يجب أن يحل مكان علامة الاستفهام في متتالية الأشكال التالية:



(9) ما هي مجموعة الأشكال التي يجب أن تحل مكان علامات الاستفهام في متتالية الأشكال التالية:



(1)



(2)



(3)

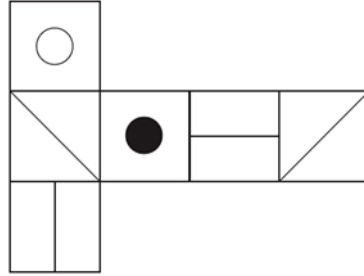


(4)

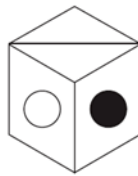


(5)

(10) عندما يتم طي الورقة التالية على شكل مكعب فأَي شكل سيتكون منها؟



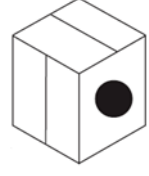
(4)



(3)

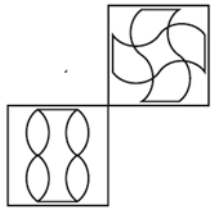
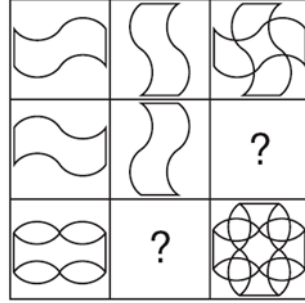


(2)

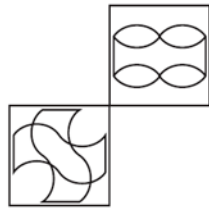


(1)

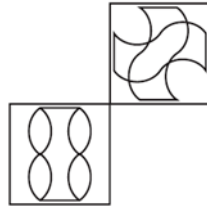
(11) ما هما المربعان اللذان يجب أن يحلا مكان المربعين الناقصين؟



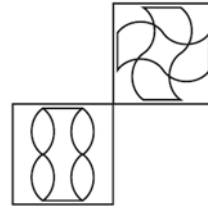
(5)




(4)



(3)

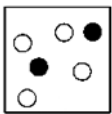
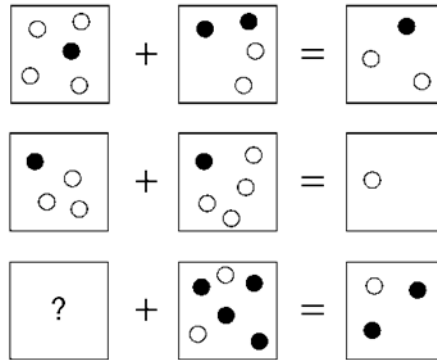


(2)




(1)

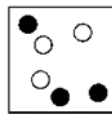
(12) أي من الأشكال اللاحقة يمثل الجزء الناقص من الشكل التالي:



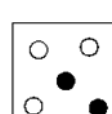
(5)



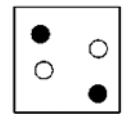
(4)



(3)

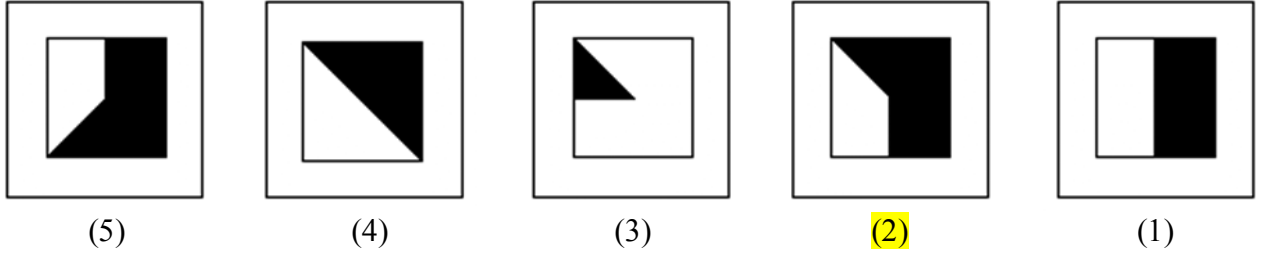
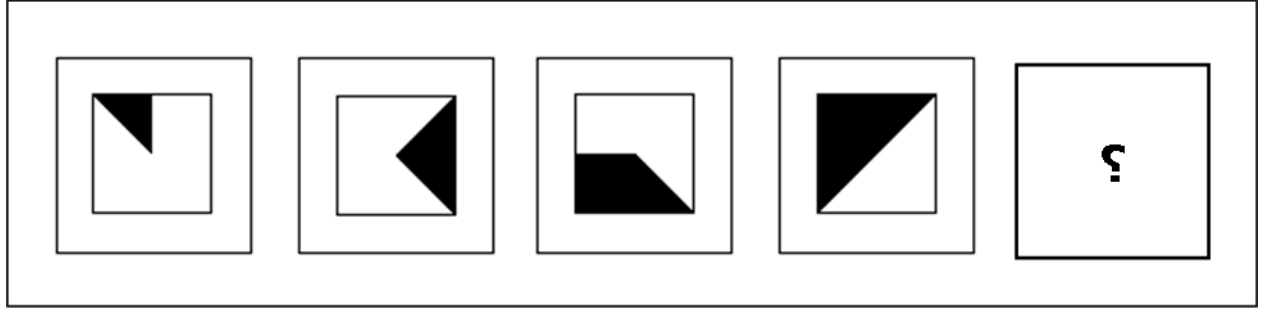


(2)

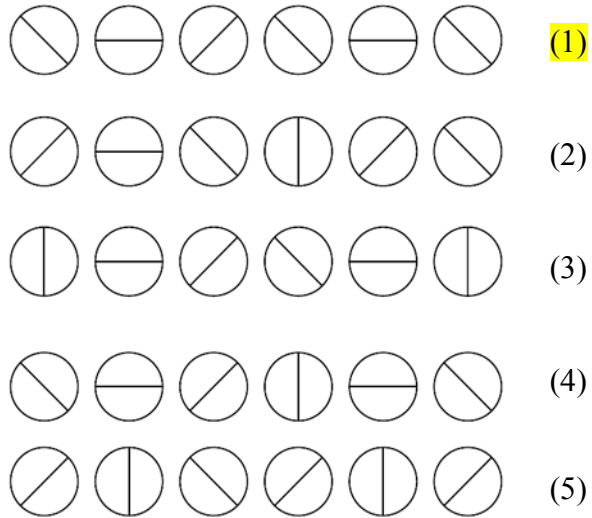
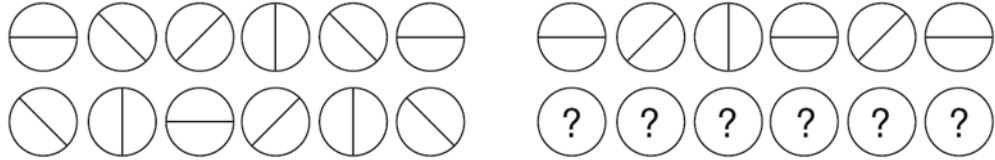


(1)

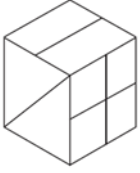
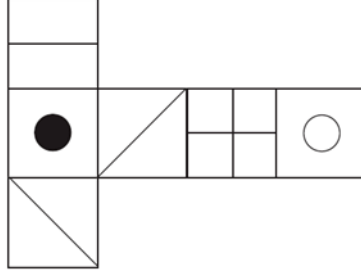
(13) ما هو الشكل الذي يجب أن يحل مكان علامة الاستفهام في متتالية الأشكال التالية:



(14) ما هي مجموعة الأشكال التي يجب أن تحل مكان علامات الاستفهام؟



(15) عندما يتم طي الورقة التالية على شكل مكعب فأى شكل سيتكون منها؟



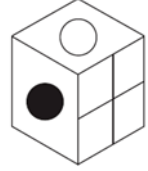
(4)



(3)



(2)



(1)