

INTRODUCTION:

Date: ____ / ____ / ____

Please fill in the following section as instructed by the facilitator:

Use Capital/Block Letters

To be filled out by enumerator:

Duration: 60 Minutes (20, 20, 20)

Child/Student's ID:	HH/School's ID:	Start time:
		End time:

To be filled out by child:

Child/Student's Name:	Gender:	How are you being tested?
_____	A) Boy B) Girl	A) Group B) Alone C) Classroom

Instructions in English:

Following are some basic instructions for the tests:

- Questions are printed on both sides of the booklet.
- You can write your answers with a pen or pencil.
- Instructions for each question in the test is given in English, Urdu and Sindhi; please read the given instructions in the language you are most familiar with.
- You must attempt ALL the questions in the booklet; try to mark the best option in case you do not know the answer to a given question.
- When you have completed the test, please remain seated till your test sheets have been collected.
- You will get 5 minute breaks between each section. You can drink water or use the toilet during these breaks; however, you cannot take your test with you.

Instructions in Urdu:**ہدایات :**

درج ذیل میں امتحان سے متعلق کچھ بنیادی ہدایات ہیں:

سوالات کتابچے کے دونوں اطراف میں پرنٹ کیے گئے ہیں۔
آپ جوابات قلم یا پنسل میں سے کسی سے بھی تحریر کر سکتے ہیں۔

امتحانی کتابچے میں دیئے گئے ہر سوال کے لئے ہدایات انگریزی، اردو اور سندھی میں دی گئی ہیں؛ برائے مہربانی دی گئی ہدایات کو اس زبان میں پڑھیں جس سے آپ کی بہتر شناسائی ہے۔
آپ نے کتابچے میں دیئے تمام سوالات حل کرنے ہیں؛ اگر آپ کو کسی سوال کا جواب نہ آتا ہو تو سب سے بہتر آپشن پر نشان لگانے کی کوشش کریں۔
برائے مہربانی امتحان مکمل کرنے کے بعد اس وقت تک اپنی نشست پر بیٹھے رہیں جب تک آپ سے امتحانی کتابچہ لے نہیں لیا جاتا۔
ہر سیکشن کے بعد آپ کو 5 منٹ کا وقفہ ملے گا۔ وقفے کے دوران آپ پانی پی سکتے ہیں یا بیت الخلاء جاسکتے ہیں؛ لیکن آپ امتحانی کتابچہ اپنے ساتھ نہیں لے جاسکتے ہیں۔

Instructions in Sindhi:**ہدایت :**

هينيان امتحان سان متعلق ڪجهه بنيادي هدايتون آهن:

سوال ڪتابچي جي ٻنهي طرفان پرنٽ ڪيل آهن.

اوهان جواب قلم يا پنسل ۾ ڪنهن سان بي لکي سگهو ٿا.

امتحاني ڪتابچي ۾ ڏنل هر سوال جي لاءِ هدايت انگريزي، اردو ۽ سنڌي ۾ ڏنل آهن؛ مهرباني ڪري ڏنل هدايت

کي ان زبان ۾ پڙهو جيڪا اوهان لاءِ آسان هجي. اوهان کي ڪتابچي ۾ ڏنل سمورا سوال حل ڪرڻا آهن؛ جيڪڏهن

اوهان کي سوال جو جواب نه اچي ته سڀ کان بهتر آپشن تي نشان لڳائڻ جي ڪوشش ڪيو.

مهرباني ڪري امتحان مڪمل ڪرڻ کان پوءِ پنهنجي جاءِ تي ويٺا رهو جيئن تائين اوهان کان امتحاني ڪتابچو

ورتو نه وڃي. هر سيشن کانپوءِ اوهان کي 5 منٽ جو وقفو ملندو. وقفي جي دوران اوهان پاڻي پي سگهو ٿا ۽

بيت الخلاء وڃي سگهو ٿا؛ پر اوهان امتحاني ڪتابچو پاڻ سان کڻي نٿا وڃي سگهو.

SAMPLE QUESTION:

<p>Q.15)</p> <p style="text-align: center;">↓</p> <p style="text-align: center;">Question number</p>	<p>Circle the number that follows:</p> <p style="text-align: center;">2 , 3, _____</p> <p style="text-align: center;">A) 6 B) 1 C) 4 D) 10</p> <p style="text-align: center;">↓ ↓ ↓</p> <p style="text-align: center;">Question Options</p>	<p style="text-align: center;">↑</p> <p style="text-align: center;">Instructions</p> <p style="text-align: center;">↑</p> <p style="text-align: center;">Translations</p> <p>س: بعد میں آنے والے عدد پر دائرہ لگائیں۔ س: بعد میں آچے والے عدد تي گول لڳايو.</p> <div style="border: 1px solid black; padding: 5px; margin-top: 10px;"> <p>Example: 7, 8, <u>9</u></p> </div> <p style="text-align: center;">↓</p> <p style="text-align: center;">Example</p>
--	---	--

On the following page you will find a few questions that will familiarize you with the format of the questions in the test as well as guide you with the best way of answering the questions.

PRACTICE QUESTIONS**MATH: MCQ**

Q.1) Circle the class you are currently enrolled in:

س: آپ اس وقت جس جماعت میں پڑھ رہے ہیں اس پر دائرہ لگائیں۔

I am in class _____.

س: اوہان هن وقت جنهن ڪلاس ۾ پڙهي رهيا آهيو ان کي گول لڳايو.

A) 2 B) 3 C) 4 D) 5

Example: I am in class 3.

URDU: Match the Columns

سوال نمبر 2: مندرجہ ذیل حروف کو ان سے شروع ہونے والے الفاظ سے ملائیں۔

سوال: هيٺين اکرن کي انهن سان شروع ٿيڻ وارن لفظن سان ملايو.

(1) ب جوتا

(2) پ طوطا

(3) ج بلی

(4) ط پتکھا

مثال: ش — شیر

PRACTICE QUESTIONS**ENGLISH: Reading comprehension**

Read the passage below and circle the correct answer to the questions given below:

My name is Asif. I live in Karachi. I am 8 years old.

Q3) Where does Asif live?

- A) *Karachi* B) *Lahore* C) *Islamabad* D) *Quetta*

Q4) How old is Asif?

- A) *2 years* B) *3 years* C) *5 years* D) *8 years*

URDU: Reading comprehension

ذیل میں دی گئی کہانی پڑھیں اور نیچے دئے گئے سوالات کے صحیح جوابات پر دائرہ لگائیں

میرا نام آصف ہے۔ میں کراچی میں رہتا ہوں۔ میری عمر آٹھ سال ہے۔

سوال نمبر 5: آصف کہاں رہتا ہے؟

- ا) کراچی ب) لاہور پ) اسلام آباد ت) کوئٹہ

سوال نمبر 6: آصف کی عمر کتنی ہے؟

- ا) 2 سال ب) 3 سال پ) 5 سال ت) 8 سال

SINDHI: Reading comprehension

هيٺ ڏنل ڪهاڻي پڙهو ۽ هيٺين سوالن جي صحيح جوابن تي گول لڳايو.

منهنجو نالو آصف آهي. مان ڪراچي ۾ رهندو آهيان. منهنجي عمر اٺهه سال آهي.

سوال نمبر 6: آصف ڪٿي رهندو آهي.

- ا) ڪراچي ب) لاہور پ) اسلام آباد ت) ڪوئٽہ

سوال نمبر 7: آصف جي عمر ڪيتري آهي.

- ا) 2 سال ب) 3 سال پ) 5 سال ت) 8 سال

END OF PRACTICE SECTION

خالی جگہ میں آنے والے صحیح حرف پر دائرہ لگائیں

Circle the missing alphabets.
from Q.1 to Q.2 (1 min)

خالی جاء تي اچڻ وارن صحيح آڪرن تي گول لڳايو.

Q.1.

D, _____, F

A) *Y* B) *E* C) *O* D) *P*

Q.2.

V, _____, X

A) *U* B) *W* C) *S* D) *B*

Example:

P, Q, R,

بڑے حرفوں کے صحیح چھوٹے حرف پر دائرہ لگائیں

Circle the small letter for each capital letter.
from Q.3 to Q.4 (1 min)

وڏي آڪرن جي صحيح ننڍي آڪرن تي گول لڳايو.

Q.3.

G: _____

A) *f* B) *g* C) *d* D) *r*

Q.4.

Z: _____

A) *k* B) *h* C) *z* D) *j*

Example:

P: p

Circle the option that should precede the name
of the object.

تصوير کے نام سے پہلے آنے والے صحیح لفظ پر دائرہ لگائیں

from Q.5 to Q.6 (2 mins)

تصوير جي نالي جي پهرين اچڻ واري صحيح لفظ تي گول لڳايو.

Q.5.



_____ Parrot

A) *an* B) *a*Example: A CarAn Owl

Q.6.



Example: A CarAn Owl

Circle the word that correctly fills in the blank.
from Q.7 to Q.12 (3 mins)

خالی جگہ میں آنے والے صحیح لفظ پر دائرہ لگائیں
خالی جاء تي اچڻ واري صحيح لفظ تي گول لڳايو.

Q.7.



The girl is playing _____ a doll.

A) *with* B) *on* C) *under* D) *behind*

Example:

Sarah is sleeping in her room.

Q.8.



1.



2.

In the picture on the left,

the first ball is _____

A) *thin* B) *tall* C) *big* D) *sweet*

Example:

In the picture, the
second ball is small.

Q.9.



_____ eat mangoes in summer.

A) *We* B) *He* C) *It*

Example:

This is Mrs Ali.
She lives in Karachi.

Q.10.



This is my cat. ____ likes meat.

- A) *them* B) *it* C) *I*

Example:

This is Mrs Ali.
She lives in Karachi.

Q.11.

Sara _____ long hair and blue eyes.

- A) *has* B) *have*

Example:

The school has 2 classrooms.They have many cats.

Q.12.

Question: _____ tore this paper?

Answer: Ali tore this paper.

- A) *Where* B) *Why* C) *When* D) *Who*

Example:

Question: What is your name?

Circle the opposite word.
(1 min)

مندرجہ ذیل کے صحیح متضاد لفظ پر دائرہ لگائیں
ھیٹ ڈنل لفظن جي صحيح ضد واري لفظن تي گول لڳايو.

Q.13.

Big: _____

- A) *hot* B) *old* C) *small* D) *sad*

Example:

Heavy: Light

Circle the past tense of the following words.
(1 min)

مندرجہ ذیل کے صحیح فعل ماضی پر دائرہ لگائیں
ھیٹ ڈنل مان صحيح فعل ماضي تي گول لڳايو.

Q.14.

Run: _____

- A) *ran* B) *slept* C) *felt* D) *came*

Example:

Go: Went

مندرجہ ذیل کے صحیح جمع لفظ پر دائرہ لگائیں

Circle the plural words of the following.
from Q.15 to Q.16 (1 min)

ھیٹ ڈنل مان صحیح جمع تی گول لگایو۔

Q.15.

Tooth: _____

- A)
- men*
- B)
- teeth*
- C)
- women*
- D)
- children*

Q.16.

Child: _____

- A)
- men*
- B)
- oxen*
- C)
- women*
- D)
- children*

Example:

Mouse: MiceCircle the day that correctly fills the missing blank.
(1 min)خالی جگہ میں آنے والے صحیح لفظ پر دائرہ لگائیں
خالی جاء تی ایچن واری صحیح لفظ تی گول لگایو۔

Q.17.

Thursday, _____, Saturday

- A)
- Friday*
- B)
- Thursday*
- C)
- Sunday*

Example:

Sunday, Monday, Tuesday

Circle the option that best describes the picture.
(1 min)تصویر کو بیان کرنے والے صحیح جملے پر دائرہ لگائیں
تصویر کی بیان کرن واری جملی تی گول لگایو۔

Q.18.



- A) *The woman is working on a computer.*
 B) *The woman is dancing.*
 C) *The woman is eating a banana.*
 D) *The woman is sleeping.*

Write a sentence of your own using the word 'water'
(2 mins)لفظ 'پانی' کو استعمال کرتے ہوئے جملہ بنائیں
لفظ 'پانی' کی استعمال کری جملہ ناھیو۔

Q.19.

Example:

Car: Ali drives a red carCircle the word that is correctly spelt.
(1 min)صحیح ہجوں (Spellings) والے لفظ پر دائرہ لگائیں
صحیح آکرن (Spellings) واری لفظ تی گول لگایو۔

Q.20.

- A)
- baloone*
- B)
- baloon*
- C)
- balloon*
- D)
- balonne*

Example:

- (A) Car B) Caar C) Cor D) Cer

Read the passage below and circle the correct answer to questions given after the passage.
from Q.21 to Q.25 (5 mins)

ذیل میں دی گئی کہانی پڑھیں اور نیچے دئے گئے سوالات کے صحیح جوابات پر دائرہ لگائیں
ھیٹ ڈنل کھاٹی پڑھو ۽ ھینین سوالن جي صحيح جوابن
تي گول لڳايو.

A small village



Rahimabad is a small village. It is near a railway station. It has a good school. The school has a big playground. The children go to school.

Q.21. What kind of a village is Rahimabad?

- A) *big* B) *dark* C) *small* D) *empty*

Q.22. Where is Rahimabad located?

- A) *near the sea* B) *near a railway station* C) *on the hill top* D) *near a river*

Q.23. What is the school like in Rahimabad?

- A) *good* B) *old* C) *bad* D) *broken*

Q.24. What is the size of the school playground?

- A) *small* B) *tiny* C) *dirty* D) *big*

Q.25. Who goes to school?

- A) *cats* B) *children* C) *animals* D) *old ladies*

END OF ENGLISH SECTION

Q.1. Circle the missing numbers:

س: مندرجہ ذیل کی درمیانی رقم پر دائرہ لگائیں

س: ہیٹ ڈنل جی وچین رقم تی گول لگایو.

8	7	6			3	2
---	---	---	--	--	---	---

A) 5,4 B) 10,9 C) 23,22 D) 37,36

Example:

10			7	6
----	--	--	---	---

A) 5,4 B) 12,11 C) 9,8 D) 2,1

Q.2. Which digit is in the hundreds place in 2,345? Circle the correct answer:

س: 2,345 میں سینکڑے کا ہندسہ کون سا ہے؟ صحیح جواب پر دائرہ لگائیں

س: 2,345 ہر سینکڑی جو عدد کھڑو آھی؟ صحیح جواب تی گول لگایو.

A) 2 B) 3 C) 4 D) 5

Example: 6281

8 is in the tenth place.

Q.3. Circle the option that correctly expresses the difference between given numbers:

س: تفریق کر کے صحیح جواب پر دائرہ لگائیں

س: کت کری صحیح جواب تی گول لگایو.

$$\begin{array}{r} 6 \\ - 3 \\ \hline \end{array}$$

A) 3 B) 5 C) 2 D) 7

Example:

$$\begin{array}{r} 4 \\ - 2 \\ \hline 2 \end{array}$$

Q.4. Circle the option that correctly expresses the difference between given numbers:

س: تفریق کر کے صحیح جواب پر دائرہ لگائیں

س: کت کری صحیح جواب تی گول لگایو.

$$\begin{array}{r} 40 \\ - 26 \\ \hline \end{array}$$

A) 26 B) 14 C) 66 D) 49

Example:

$$\begin{array}{r} 52 \\ - 34 \\ \hline 18 \end{array}$$

Q.5. Circle the option that correctly expresses the sum of given numbers:

س: جمع کر کے صحیح جواب پر دائرہ لگائیں

س: جوڑ کری صحیح جواب تی گول لگایو.

$$\begin{array}{r} 76 \\ + 27 \\ \hline \end{array}$$

A) 103 B) 11 C) 97 D) 49

Example:

$$\begin{array}{r} 57 \\ + 45 \\ \hline 102 \end{array}$$

Q.6. Which of these is the largest number? Circle the correct answer:

س: نیچے دیئے گئے نمبروں میں سے سب سے بڑے نمبر پر دائرہ لگائیں۔

س: ہیٹ ڈنل نمبرن مان سپ کان وڈی نمبر تی گول لگایو.

A) 2,735 B) 2,537 C) 2,573 D) 2,753

Q.7. During the last week, Ali buys 5 litres bottle of juice for his family. He buys 1 more litre for guests. How much juice does he buy in all? Circle the correct answer:

- A) 3 B) 6 C) 1 D) 4

س: گزشتہ ہفتے کے دوران علی نے اپنے گھر والوں کے لئے 5 لیٹر جوس خریدا۔ اس نے مہمانوں کے لئے مزید 1 لیٹر جوس خریدا۔ علی نے مجموعی طور پر کتنا جوس خریدا؟ صحیح جواب پر دائرہ لگائیں

س: گزریل ہفتی میں علی پنہنجی گھر وارن لاء 5 لیٹر جوس خرید کیو۔ ان مہمانن لاء وڈیک 1 لیٹر جوس خرید کیو۔ علی کل کیترو جوس خرید کیو؟ صحیح جواب تی گول لگایو۔

Q.8. Circle the result of multiplying the given numbers:

$$3 \times 10 = \underline{\hspace{2cm}}$$

- A) 30 B) 10 C) 40 D) 3

س: ضرب دے کر صحیح جواب پر دائرہ لگائیں

س: ضرب کری صحیح جواب تی گول لگایو۔

Example:

$$4 \times 2 = \underline{8}$$

Q.9. Circle the result of dividing the given numbers:

$$20 \div 5 = \underline{\hspace{2cm}}$$

- A) 4 B) 15 C) 10 D) 7

س: تقسیم کر کے صحیح جواب پر دائرہ لگائیں

س: وند کری صحیح جواب تی گول لگایو۔

Example:

$$4 \div 2 = \underline{2}$$

Q.10. Circle the figure which is divided into four equal parts:



A

B

C

D

س: ذیل میں سے کوئی تصویر چار مساوی حصوں پر مشتمل ہے؟ صحیح جواب پر دائرہ لگائیں

س: ہینین مان کھڑی تصویر چار ہک جھڑن حصن تی مشتمل آھی؟ صحیح جواب تی گول لگایو۔

Q.11. Circle the figure which is $\frac{1}{2}$ shaded:



A

B

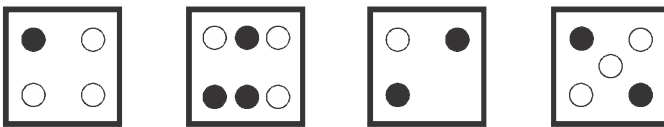
C

D

س: ذیل میں سے کوئی تصویر نصف سایہ دار ہے؟ صحیح جواب پر دائرہ لگائیں

س: ہینین مان کھڑی تصویر اید پاچی تی آھی؟ صحیح جواب تی گول لگایو۔

Q.12. Circle the figure in which half of the dots are black:



A

B

C

D

س: ذیل میں سے کوئی تصویر میں نصف نقاط سیاہ ہیں؟

صحیح جواب پر دائرہ لگائیں

س: ہینین مان کھڑی تصویر اید تبکن تی آھی؟ صحیح جواب تی گول لگایو۔

Q.13. Circle the number that is a multiple of 6:

- A) 10 B) 23 C) 36 D) 13

س: 6 سے پوری تقسیم ہونے والی رقم پر دائرہ لگائیں

س: 6 سان سچی تقسیم تین واری رقم تی گول دائرو لگایو۔

Q.14. Circle the correct result of the conversion:

س: ماپنے کی اکائی تبدیل کریں اور صحیح جواب پر دائرہ لگائیں

_____ g = 1 kg

س: ماپنے جي ايڪي ۾ تبديل ڪيو ۽ صحيح جواب تي گول لڳايو.

- A) 100 B) 10 C) 1000 D) 1

Example: 1 g = 1000 mg

Q.15. Circle the correct result of the conversion:

س: ماپنے کی اکائی تبدیل کریں اور صحیح جواب پر دائرہ لگائیں

1 day = _____ Hours

س: ماپنے جي ايڪي ۾ تبديل ڪيو ۽ صحيح جواب تي گول لڳايو.

- A) 60 B) 30 C) 24 D) 12

Example: 1 min = 60 secs

Q.16. Measure the length of the line using the ruler in the picture and circle the correct measurement:

س: تصوير ۾ ڏنل اسڪيل جي مدد ڪري لکیر کی لمبائی معلوم کریں اور صحیح جواب پر دائرہ لگائیں

س: تصوير ۾ ڏنل اسڪيل جي مدد سان لکیر جي ڊريگهه معلوم ڪيو ۽ صحيح جواب تي گول لڳايو.



- A) 3cm B) 4cm C) 5cm D) 6cm

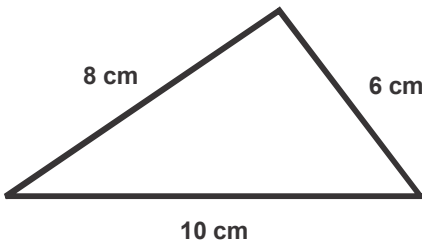
Example:



2cm

Q.17. Circle the option that correctly expresses perimeter of the triangle below:

س: مندرجہ ذیل مثلث کا گھیراؤ معلوم کریں اور صحیح جواب پر دائرہ لگائیں

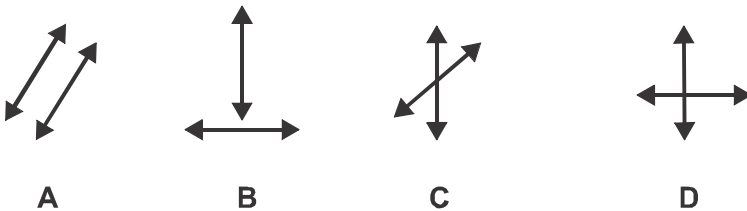


س: هيٺ ڏنل ٽريڪنڊي جو گھيرو معلوم ڪيو ۽ صحيح جواب تي گول لڳايو.

- A) 24cm B) 18cm C) 16cm D) 12cm

Q.18. Circle the pair of lines that are parallel:

س: متوازی لکیروں کی جوڑی پر دائرہ لگائیں



س: هڪجهڙين لکيرن جي جوڙي تي گول لڳايو.

A

B

C

D

Q.19. Circle the month that comes in between the given months of the solar calendar:

April, _____, June

A) **July** B) **January** C) **May** D) **August**

س: مندرجہ ذیل کے درمیانی مہینے پر دائرہ لگائیں

س: مہینے جی وچ واری مہینی تی گول لگایو.

Example:

October, November, December

Q.20. The time now is **10:15**. What will the time be after **25 minutes**?

س: اگر اس وقت 10:15 بجے ہوں تو 25 منٹ بعد کتنا وقت ہوگا؟

س: جبکہ ان وقت 10:15 ٹین تاتہ

25 منٹ کانپو کیترو وقت ہندو.

Q.21. Circle the shirt that costs the least:

س: سب سے سستی قمیض پر دائرہ لگائیں



س: سپ کان سستی قمیض تی گول لگایو.

The following picture graph shows the number of animals in the Zoo. Use the information from the graph to answer the questions below:

درج ذیل گراف چڑیا گھر میں جانوروں کی تعداد کو ظاہر کرتا ہے

گراف دیکھ کر نیچے دیئے گئے سوالات کے صحیح جوابات پر دائرہ لگائیں

ہینین ڈنل گراف چڑیا گھر میں جانوروں جی تعداد کی ظاہر تو کری.

گراف ڈسی ہیٹ ڈنل سوالن جی صحیح جوابن تی گول لگایو.

Lions	Deer	Monkey	Fox	Rabbits	Elephant

Q.22. How many more deers are there than rabbits? Circle the correct option:

س: ہرنوں کی تعداد خرگوشوں سے کتنی زیادہ ہے؟ صحیح جواب پر دائرہ لگائیں

س: ہرنن جو تعداد سیہڑن کان کیترو وڈیک آھی؟

صحیح جواب تی گول لگایو.

A) 5 B) 4 C) 1 D) 2

Example:

There is 1 elephant in the graph.

Q.23. The price of a pen is Rs. 25. What is the price of 5 such pens? Circle the correct answer:

- A) 60 B) 125 C) 70 D) 7

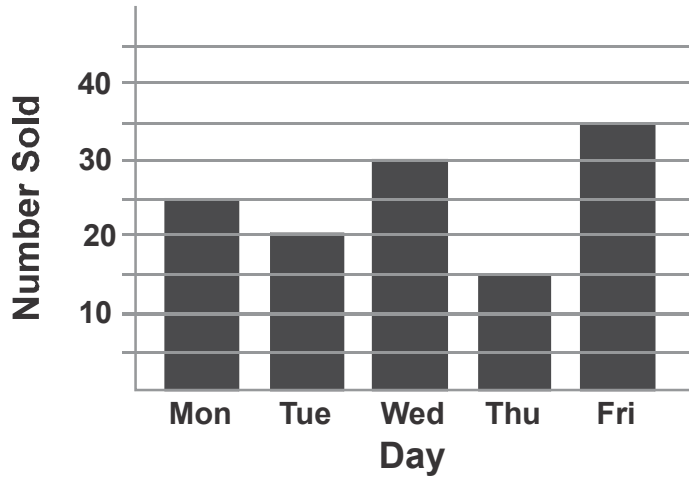
س: اگر ایک قلم کی قیمت 25 روپے ہو تو پانچ کی قیمت کیا ہوگی؟ صحیح جواب پر دائرہ لگائیں

س: جیکڈھن هڪ ڀين جي قيمت 25 روپيا هجي ته ٽي ڀينن جي قيمت ڇا ٿيندي؟ صحيح جواب تي گول لڳايو.

The following bar graph shows the number of toffees sold by a shop keeper in the past week. The vertical axis shows the number of toffees sold and the horizontal axis shows the days of the week. Use the information from the graph to answer the questions below:

نيچي ڏيئي تصوير دکھائي ہے کہ پچھلے ہفتے کے ہر دن پر ایک دکاندار نے کتنی ٹافیاں بیچیں۔
گراف کی مدد سے درج ذیل سوالات حل کریں اور صحیح جواب پر دائرہ لگائیں

هيٺ ڏنل تصوير ڏيکاري ٿي ته گذريل هفتي جي هر ڏينهن تي هڪ دوکاندار ڪيتريون تافيون وڪڙيون.
گراف جي مدد سان هيٺيان سوال حل ڪريو ۽
صحيح جواب تي گول لڳايو.



Q.24. How many toffees did the shopkeeper sell on Monday? Circle the correct answer:

- A) 10 B) 0 C) 25 D) 40

س: دکاندار نے پير کے دن کتنی ٹافیاں بیچیں؟ صحیح جواب پر دائرہ لگائیں

س: دوکاندار سومر جي ڏينهن ڪيترون تافيون وڪيون؟
صحيح جواب تي گول لڳايو.

Q.25. How many total toffees did the shopkeeper sell on Thursday and Friday?

- A) 15 B) 35 C) 50 D) 10

س: دکاندار نے جمعرات اور جمعہ کے دن کتنی ٹافیاں بیچیں؟ صحیح جواب پر دائرہ لگائیں
س: دوکاندار خميس ۽ جمعي جي ڏينهن ڪيترون تافيون وڪيون؟
صحيح جواب تي گول لڳايو.

Example:


The shopkeeper sold 20 toffees on Tuesday.

سوال 1: هيٺ ڏنل لفظن کي توڙي لکو.

جوڙ	توڙ
(1) ڪن	_____
(2) چوڙا	_____
(3) خوشڪي	_____

مثال: شروع _____ شروع _____

سوال 2: تصوير ۾ ڏيکاريل شيءِ جي نالي تي گول لڳايو.



(1) ٽي وي (ب) ڪيمرو (پ) ٽيليفون

(1) موجي (ب) ڌوبي (پ) نائي

(1) ليلو (ب) اُٺ (پ) ٻڪرو

سوال 3: هيٺين ڏنل جملن ۾ خالي جاءِ تي ڪي ۽ ان جي مدد سان ڀريو.

(1) مون _____ پنهنجي اسڪول سان پيار آهي (ا) ڪي (ب) جو

(2) اسان جي ملڪ _____ نالو پاڪستان آهي (ا) ڪي (ب) جو

مثال: جيئن عامر کي اسڪول وڃڻ لاءِ پنڌ هلائڻو پوندو آهي.
(ا) ڪي (ب) جو

سوال 4: هيٺ ڏنل لفظن جي ساڳي معنيٰ وارا لفظ چونڊيو ۽ صحيح جواب تي گول لڳايو.

لفظ	معنيٰ
(1) فلڪ	(1) زمين (ب) آسمان (پ) سج
(2) والدين	(1) هميشه (ب) ماءُ پيءُ (پ) جلدي
(3) جشن	(1) ذهين (ب) خوش شڪل (پ) خوشي
(4) ناتوان	(1) طاقتور (ب) معذور (پ) ڪمزور

مثال:

پستي (1) هيٺ (ب) مٿي (پ) انچائي

سوال 5: هيٺ ڏنل لفظن جي ضد وارا لفظ چونڊيو ۽ صحيح جواب تي گول لڳايو.

لفظ _____ ضد _____

(1) چڱو (ا) دشمن (ب) پاڙهيسري (پ) خراب

(2) روشني (ا) نمڪين (ب) اوندهه (پ) اوڀر

(3) ويجهو (ا) ڳاڙهو (ب) پري (پ) ڏوڪهه

(4) شروع (ا) خوشي (ب) برائي (پ) آخر

مثال:

آسمان (ا) انڇائي (ب) سمندر (پ) زمين

سوال 6: هيٺين ڏنل جملن ۾ خالي جاءِ موزون لفظ جي مدد سان ڀريو. صحيح جواب تي گول لڳايو.

(1) ماڻُ _____ جو ڪم ڪندي آهي. (ا) گهر (ب) دوڪان

(2) ڪالهه سڄ نڪتو _____ (ا) هيو (ب) آهي

(3) سڀني کي پنهنجي _____ جو ميوو ملندو آهي (ا) محنت (ب) صحت

مثال:

هاري ڪپهه جو _____ پوکي ٿو

(ا) ٻوٽو (ب) ٻج

سوال 7: هيٺين لفظن جي جمع لکو.

لفظ _____ جمع _____ لفظ _____ جمع _____

(1) بستو _____ (3) فرض _____

(2) شهر _____ (4) باغ _____

مثال:

جانور _____ جانورن

سوال 8: هيٺين لفظن جي مذڪر يا مونث ڪيو ۽ صحيح جواب تي گول لڳايو.

لفظ _____ مذڪر مونث _____

(1) پڪي (ا) ڪچي (ب) پڪا (پ) ڏاچي

(2) چاچي (ا) شيهن (ب) چاچو (پ) ڪتو

مثال: بيل

(ا) ٻڪري (ب) ڳڻو (پ) اٺ

سوال 9: هيٺين لفظن جي معنيٰ ڪيو ۽ صحيح جواب تي گول لڳايو.

(1) اک لڳڻ (ا) ڪيڏڻ (ب) سمهڻ (پ) هيڏان هوڏان جي ڳالهه

(2) ڏند گڏ ڪرڻ (ا) هارجڻ (ب) ڪٽڻ (پ) خوشي منائڻ

مثال: باغ باغ ٿيڻ (ا) خوش ٿيڻ (ب) ڪاوڙجڻ (پ) ڏک ٿيڻ

سوال 10: هيٺ ڏنل صفت جي موصوف کي پاڻ ۾ ملايو.

صفت	موصوف
(1) نادان	آفت
(2) اندهيري	فوج
(3) تازه دم	رات
(4) اوچتو	ٻار

مثال: ننڍي _____ پيٽ

سوال 11: هيٺ ڏنل لفظن کي ملائي مرڪب لفظ بڻايو.

(1) قائد	جهاز
(2) هوائي	اعظم

مثال: موسم _____ بهار

سوال 12: هيٺ ڏنل لفظن جا جملا بڻايو.

- (1) چاهن _____
- (2) گاڏي _____

هيٺ ڏنل لائنن کي غور سان پڙهو ۽ بعد ۾ ڏنل سوالن جي صحيح جواب چونڊي صحيح جواب تي گول لڳايو.

اڄ کان هزار سال اڳ هن زمين تي انساني آبادي گهٽ هئي. ان وقت جا عام ماڻهو جنگلن ۾ رهندا هئا. ماڻهو شڪار جي لاءِ جانور جي ڪل پهرندا هئا. زندگي تمام سادي هئي ۽ زندگي جون ضرورتون تمام گهٽ هيون. اناج حاصل ڪرڻ لاءِ انهن کي پوريحت جي ضرورت نه هونئي بلڪه هو قدرتي پيداوار ۽ ميون تي گزارو ڪندا آهن.

سوال 13: اڄ کان هزار سال اڳ ڪيتري آبادي هئي؟ (ا) تمام گهٽ (ب) ٻه لک (پ) تمام گهڻي (ت) بلڪل نه

سوال 14: اڄ کان هزار سال اڳ انسان ڪٿي رهندا هئا؟ (ا) سمنڊ ۾ (ب) غار ۾ (پ) جبلن ۾ (ت) جنگلن ۾

سوال 15: اڄ کان هزار سال اڳ ماڻهو پهريندا هئا؟ (ا) جانور جي ڪل (ب) گرم ڪپڙا (پ) ڪجهه نه (ت) سٺا ڪپڙا

سوال 16: ماڻهو جي عام طور ڇا خوراڪ کائيندا هئا؟ (ا) گوشت (ب) اناج (پ) قدرتي پيداوار (ت) ڪهڙي