



افغانستان صابر خدمات وړاندې کوونکی

د پوهنې سروې

**2017**

مادیول 5الف – د زده کوونکی ارزونه

د مرکه کوونکی کتابچه



## تیر مالومات (بک گراونڈ)

د 4 - 1 پوښتنې باید د مرکې څخه مخکې بشپړ شي

مرکه کونکي له پاره نوبت: مهرباني وکړئ ټول ځوابونه په واضح ډول یوازې په لویو حروفو باندې ولیکئ!

کود	نوم (نومونه)	
_____		1. د مرکه کوونکي نوم
_____		2. د ښوونځي نوم او د سروې کود
_____		3. د ښوونځي EMIS کود او د ثبت شمېره
____/____/____	ورځ/میاشت/کال (مثال: 16/10/15)	4. نېټه
____:____:____	وخت په 24 ساعتونو (مثال: ۰۸:۳۰)	5. د مرکې پیل
____:____:____	وخت په 24 ساعتونو (مثال: 14:30)	6. د مرکې پای

نېټه ورځ/میاشت/کال (مثال: ۱۶/۱۰/۱۶)	لاسلیک	ځواب	کود	څارنه/نظارت	
2.		1.			
____/____/____		____	کودونه: ۱ = بشپړ شوي پوښتنلیک	a. مرکه کوونکي	7. د پوښتنلیک تصدیق
____/____/____		____	۲ = نا بشپړ شوي پوښتنلیک	b. سوپروایزر	
____/____/____		____	۳ = تړل شوي ښوونځي رد شوي ۴ =	c. کمپیوټرکار	

### مادیو 5 – مرکه کوونکی لپاره لاریوونې:

تاسو باید زده کوونکی ته لاریوونې ولولئ، خو هغوی سره د سوال په ځوابولو کې مرسته مه کوئ.

تاسو باید په هغه ژبه خبرې وکړئ چې شاگردانو ته په پېره آسانه د فهم وړ وي.

مخکې له دې چې ارزونه پیل کړئ، زده کوونکو ته واضح کړئ چې څه به کيږي. **لطفاً ورکړل شوی لاریوونې ولولئ:**

”سلام زما نوم \_\_\_\_\_ ده. زه دلته راغلی يم چې د هغه څه په اړه پوه شم چې تاسو یې په پښوونځي کې زده کوئ، نو ستاسو څخه زیاته مننه کوم چې له ما سره په دې چاره کې مرسته کوئ. لومړی به زه ستاسو څخه څه پوښتنې وکړم ترڅو ستاسو په اړه څه معلومات ترلاسه کړم. له هغه وروسته به زه درته یو څو پوښتنې ولولم او له تاسو څخه به وغواړم چې په خپله کتابچه کې هغه درسره ولیکئ. آیا کولی شو چې پیل یې کړو؟“

### برخه: حروف، اعداد او د کلمو پیژندنه

**1 پوښتنه.** لاریووننه: زده کوونکو څخه پوښتنه وکړئ چې درې عددونه په سمه توګه په ګوته کړي.

د بیلګې په ډول، پوښتنه وکړئ: ”لطفاً کولای شئ چې د (34) عدد نه دایره چاپیره کړئ؟“

”لطفاً کولای شئ چې د (12) عدد نه دایره چاپیره کړئ؟“

”لطفاً کولای شئ چې د (9) عدد نه دایره چاپیره کړئ؟“

**2 پوښتنه.** لاریووننه: زده کوونکو څخه پوښتنه وکړئ چې درې حروف په سمه توګه په ګوته کړي.

د بیلګې په ډول، پوښتنه وکړئ: ”لطفاً کولای شئ چې د (ع) حرف نه دایره چاپیره کړئ؟“

”لطفاً کولای شئ چې د (ح) حرف نه دایره چاپیره کړئ؟“

”لطفاً کولای شئ چې د (س) حرف نه دایره چاپیره کړئ؟“

**3 پوښتنه.** لاریووننه: زده کوونکو څخه پوښتنه وکړئ چې درې کلمې په سمه توګه په ګوته کړي.

د بیلګې په ډول، پوښتنه وکړئ: ”لطفاً کولای شئ چې د (روغ بر) حرف نه دایره چاپیره کړئ؟“

”لطفاً کولای شئ چې د (درناوي) حرف نه دایره چاپیره کړئ؟“

”لطفاً کولای شئ چې د (کيلي) حرف نه دایره چاپیره کړئ؟“

**4 پوښتنه.** لاریووننه: زده کوونکو څخه پوښتنه وکړئ چې یو انځور په سمه توګه په ګوته کړي.

د بیلګې په ډول، پوښتنه وکړئ: ”لطفاً کولای شئ چې د (بوټان) انځور نه دایره چاپیره کړئ؟“

اوس تاسو د لوست برخې بشپړیدو لپاره 30 دقیقې وخت لرئ همدارنگه د ریاضی برخې بشپړیدو لپاره 30 دقیقې وخت لرئ.

د حرف، عدد او کلمو پیژندنه

1. لطفا اعدادو نه دایره چاپیره کړئ چی بنوونکی یی درته یی ښایی.

55	3	23
4	12	6
34	21	9

2. لطفا حروفو نه دایره چاپیره کړئ چی بنوونکی یی درته یی ښایی.

ل	ع	ح
ف	ذ	و
ا	س	ث

3. لطفا کلمو نه دایره چاپیره کری چی بنوونکی یی درته یی بنایی.

کیسه	درناوی	لاندی
روغ پر	شین	کیلی
بیرون	پلار	مبوه

4. لطفا هغه انځور نه دایره چاپیره کری چی بنوونکی یی ذکر کوي.





افغانستان صابر خدمات وړاندې کوونکي

د پوهنې سروې

2017

مادپول 5ب – د زده کوونکي ارزونه

ژبه



## تیر مالومات (بک گراونڈ)

د 4 - 1 پوښتنې باید د مرکې څخه مخکې بشپړ شي

مرکه کونکي له پاره نوټ: مهرباني وکړئ ټول ځوابونه په واضح ډول یوازې په لویو حروفو باندې ولیکئ

نوم (نومونه)		کوډ
1.	د مرکه کوونکي نوم	_____
2.	د ښوونځي نوم او د سروې کوډ	_____
3.	د ښونځي EMIS کوډ او د ثبت شمېره	_____
4.	نیټه	_____ ورځ/میاشت/کال (مثال: 16/10/15)
5.	د مرکې پیل	وخت په 24 ساعتونو (مثال: ۰۸:۳۰)
6.	د مرکې پای	وخت په 24 ساعتونو (مثال: 14:30)

څارنه/نظارت			کوډ	ځواب	لاسلیک	نیټه ورځ/میاشت/کال (مثال: ۱۵/۱۰/۱۶)
				1.		2.
7.	a. مرکه کوونکي	د پوښتنلیک تصدیق	کوډونه : ۱ = بشپړ شوي پوښتنلیک ۲ = نا بشپړ شوي پوښتنلیک ۳ = تړل شوي ښوونځي ۴ = رد شوي	_____		_____
	b. سوپروایزر			_____		_____
	c. کمپیوټرکار			_____		_____

## د زده کونکي ارزوني لومړني مالومات

1.	زده کونکي نوم _____	ID:  ____   ____
2.	څو کلن یی؟	____   ____
3.	هلک یی که جنی؟	<input type="checkbox"/> 1=هلک <input type="checkbox"/> 2=جنی
4.	تا سره په کور کې نور څوک وسپړي؟	<input type="checkbox"/> 1=زه د خپل پلار او مور دواړو سره اوسپړم <input type="checkbox"/> 2=د مور سره اوسپړم <input type="checkbox"/> 3=د پلار سره اوسپړم <input type="checkbox"/> 4=د خپل فامیل بل غړی سره اوسپړم <input type="checkbox"/> 5=یواځې اوسپړم <input type="checkbox"/> 6=د کار ځای کې اوسپړم
5.	په کور کې څو وروڼه او خويندې لري؟	____
6.	پلار دی څومره تحصیل کړيدي؟	<input type="checkbox"/> 1=بیسواد <input type="checkbox"/> 2=ابتداییه ښوونځي <input type="checkbox"/> 3=متوسطه <input type="checkbox"/> 4=دولسم پاس <input type="checkbox"/> 5=څوارلسم پاس <input type="checkbox"/> 6=لیسانس یا پورته
7.	مور دی څومره تحصیل کړيدي؟	<input type="checkbox"/> 1=بیسواد <input type="checkbox"/> 2=ابتداییه ښوونځي <input type="checkbox"/> 3=متوسطه <input type="checkbox"/> 4=دولسم پاس <input type="checkbox"/> 5=څوارلسم پاس <input type="checkbox"/> 6=لیسانس یا پورته
8.	ښوونځي ته د تگ لپاره د کوم ډول ترانسپورت څخه ګټه اخلي؟	<input type="checkbox"/> 1=پياده/قدم وهل <input type="checkbox"/> 2=بابیسکل <input type="checkbox"/> 3=ملی بس <input type="checkbox"/> 4=موټر سايکل <input type="checkbox"/> 5=تکسی <input type="checkbox"/> 6=موټر
9.	په څومره وخت کې ښوونځي ته رسپړی؟	____   ____  دقیقې
10.	آیا نن مو ښوونځي ته د راتلو څخه مخکې سهارنۍ ناشته کړي وه؟	<input type="checkbox"/> 1=هو، په کور کې <input type="checkbox"/> 2=هو، په ښوونځي کې <input type="checkbox"/> 3=نه
11.	آیا تیر کال هم پدې ښوونځي کې وئ؟	<input type="checkbox"/> 1=هو <input type="checkbox"/> 2=نه
12.	آیا کور کې د ویده کیدو لپاره یوه کوټه (طاق) لري؟	<input type="checkbox"/> 1=هو <input type="checkbox"/> 2=نه
13.	ستا په طاق کې څو کسان ویده کيږي؟	____   ____
14.	کور کې په کومه ژبه خبرې کوي؟	<input type="checkbox"/> ۱=دری <input type="checkbox"/> ۲=پشتو <input type="checkbox"/> ۳=ازبیکي <input type="checkbox"/> ۴=ترکمني <input type="checkbox"/> ۵=بلوچی <input type="checkbox"/> ۶=پشه یی <input type="checkbox"/> ۷=نور ستاني <input type="checkbox"/> ۸=هزاره گی <input type="checkbox"/> ۹=نور (مشخص کړئ)
15.	ښوونځي کې په کومه ژبه خبرې کوي؟	<input type="checkbox"/> ۱=دری <input type="checkbox"/> ۲=پشتو <input type="checkbox"/> ۳=ازبیکي <input type="checkbox"/> ۴=ترکمني <input type="checkbox"/> ۵=بلوچی <input type="checkbox"/> ۶=پشه یی <input type="checkbox"/> ۷=نور ستاني <input type="checkbox"/> ۸=هزاره گی <input type="checkbox"/> ۹=نور (مشخص کړئ)



16.	په کور کې څو ځلې په پښتو/دری ژبه باندې خبرې کوي؟	<input type="checkbox"/> 1=تقریباً هره ورځ <input type="checkbox"/> 2= په هفته/ دوه هفته کی یو ځلې <input type="checkbox"/> 3=په میاشت کی یو ځلې <input type="checkbox"/> 4=هیڅکله هم نه
آیا د اوسیدلو په فعلی کور کی ورکړل شوی شیان لرئ؟		
17.	برېښنا (برق)	<input type="checkbox"/> 1=هو = <input type="checkbox"/> 2 نه
18.	په کور کی د اوبو شتون	<input type="checkbox"/> 1=هو = <input type="checkbox"/> 2 نه
19.	کنکریټی، سمیټي یا د تیگو څخه جوړ دیوالونه	<input type="checkbox"/> 1=هو = <input type="checkbox"/> 2 نه
20.	اوسپنیز بام	<input type="checkbox"/> 1=هو = <input type="checkbox"/> 2 نه
21.	تشناب	<input type="checkbox"/> 1=هو = <input type="checkbox"/> 2 نه
22.	د خوب تخت	<input type="checkbox"/> 1=هو = <input type="checkbox"/> 2 نه
23.	رادیو	<input type="checkbox"/> 1=هو = <input type="checkbox"/> 2 نه
24.	تلویزیون	<input type="checkbox"/> 1=هو = <input type="checkbox"/> 2 نه
25.	پخچال	<input type="checkbox"/> 1=هو = <input type="checkbox"/> 2 نه
26.	موټر سائیکل / موټر	<input type="checkbox"/> 1=هو = <input type="checkbox"/> 2 نه
27.	حيوانات (اسپ، چرگان، بزې، پسونه )	<input type="checkbox"/> 1=هو = <input type="checkbox"/> 2 نه
28.	کتابونه	<input type="checkbox"/> 1=هو = <input type="checkbox"/> 2 نه
29.	گرځنده تلفون	<input type="checkbox"/> 1=هو = <input type="checkbox"/> 2 نه
30.	کمپیوټر	<input type="checkbox"/> 1=هو = <input type="checkbox"/> 2 نه
31.	څو ځلې د خپل ښوونځي کورنی دنده سرته رسوي؟	<input type="checkbox"/> 1=هره ورځ <input type="checkbox"/> 2= په هفته کی یو ځلې <input type="checkbox"/> 3=په هفته کی یو ځلې (ډیر کم) <input type="checkbox"/> 4=هیڅکله هم نه
32.	معمولا تاسو سره په کورنی دنده کی څوک مرسته کوي؟	<input type="checkbox"/> 1=هیڅوک هم نه <input type="checkbox"/> 2=ورونه او خویندې <input type="checkbox"/> 3=مور او پلار <input type="checkbox"/> 4=ښوونکي <input type="checkbox"/> 5=نور (مشخص کړئ)
33.	د تحصیل لوړه سطحه چی تاسو یی لاس ته راوړل غواړئ کومه ده؟	<input type="checkbox"/> 1=ابتداییه <input type="checkbox"/> 2=متوسطه <input type="checkbox"/> 3=دولسم پاس <input type="checkbox"/> 4=څوارلسم پاس <input type="checkbox"/> 5=لیسانس <input type="checkbox"/> 6=ماسټری/ یا تردي هم پورته
34.	په تیره میاشت کې، څو ورځې ښوونځي ته نه وی راغلي؟	<input type="checkbox"/> 1=هیڅکله <input type="checkbox"/> 2= د 1-5 ورځو ترمنځ <input type="checkbox"/> 3=د 5 ورځو څخه ډیر
35.	ستاسو د ریاضی ښوونکي نوم او کورنی نوم	پدې کال کې   _____ په تیر کال کې   _____
36.	ستاسو د ژبی (پښتو/دری) ښوونکي نوم او کورنی نوم	پدې کال کې   _____ په تیر کال کې   _____

حرف، عدد او کلمه پیژندنه

1. لطفا اعدادو نه دایره چاپیره کړئ چی بنوونکی یی درته یی بنایی.

ل	ع	ح
ف	ذ	و
ا	س	ث

2. لطفا حروفو نه دایره چاپیره کړئ چی بنوونکی یی درته یی بنایی.

55	3	23
4	12	6
34	21	9

3. لطفا کلمو نه دایره چاپیره کړئ چی بنوونکی یی درته یی بنایی.

کیسه	درناوې	لاندې
روغ بر	شین	کيلي
بیرون	پلار	مېوه

4. لطفا هغه انځور نه دایره چاپیره کړئ چی بنوونکی یی ذکر کوي.



30 دقیقو کی بشپړ کړئ:**لوست**الف برخه:

د بکس څخه سمه کلمه انتخاب کړئ او په خالی ځایونو کې یې وکاروئ ترڅو کیسه بشپړ شی.

کرل، په، فارم، پلار

زما مور او پلار بزگران دی. د هغوی (۱) \_\_\_\_\_ غټ ندی. هغوی جوار او پنبه (۲) \_\_\_\_\_  
تیر کال هغوی پیر کم اندازه غذا درلوده. ددې وجه دا وه چی (۳) \_\_\_\_\_ مریض شوی ؤ او مور  
(۴) \_\_\_\_\_ یواځې ډول فارم کې کار کاوه.

ب برخه:گرامر

سم ځواب انتخاب کړئ او د هغې نمبر په درکړل شوی ځواب پاڼه کې ولیکئ

۵. مونږ نورو سره د مورنۍ ژبی ..... اړیکې جوړوؤ.

☐ الف) واسطه ☐ ب) په واسطه ☐ ج) په واسطه ☐ د) په

۶. پرویز ..... صحرا ته بوتلل.

☐ الف) پصه ☐ ب) پسونه ☐ ج) کشتی ☐ د) کشتیاني

۷. مونږ باید بڼه او نیک ..... ولرو.

☐ الف) اخلاق ☐ ب) مهربان ☐ ج) د باور وړ ☐ د) صداقت

۸. فريده ..... نفره وه چی د منډې په سیالۍ کې یې جایزه وگټله.

☐ الف) دریمه ☐ ب) دری ☐ ج) څلور ☐ د) هیسکله

۹. حمیده او شیدا دواړه ډیرې زخمتکشي انجونې دی. دوی ..... سره مرسته کوي.

☐ الف) هغه ☐ ب) تاسو ☐ ج) مونږ ☐ د) هغوی

زمانی:

۱۰. د زانگو څخه تر قبره پوري علم ..... .

☐ الف) زده کوو ☐ ب) زده کړئ ☐ ج) زده به کړي ☐ د) زده کوي

۱۱. هغه پرون جومات ته ..... وه.

☐ الف) روانه وه ☐ ب) روان دی ☐ ج) روانه ده ☐ د) تللی وه

۱۲. زما مور نن کچالو ..... .

☐ الف) پخوي ☐ ب) پاڅه کړه ☐ ج) پاڅه به کړي ☐ د) پاڅه کړل

**ج برخه:**

لطفا لاندی مقاله در سره ولولئ او لاندی ورکړل شوو پوښتنو ته ځواب ورکړئ:

تنه زرافه (د پيتر بلايت لخوا، انځور شوی د مايکل تيږي لخوا)

د ځنگل څاروی سره یوه خوشاله ډله وه. ټول حیوانات به هر سهار سره لیدل او د ځنگل په اړه به یی خبرونه شریکول.

هر یو په خپل وار سره خبری وکړی خو هیچا زرافه ته غوږ ونه نیوه.

زرافه ډیره اوږده وه. کله چی زرافې غوښتل چی سر ټکته کړي او خبری وکړی نورو حیواناتو ورسره علاقه ونه بنوده.



۱۳. حیواناتو هر سهار د څه په هکله خبرې کولی؟

- ☐ A. زرافې په هکله
- ☐ B. د پیرانگ په هکله
- ☐ C. د ځنگله په اړه خبرونه.
- ☐ D. د بیزو (شادی) په هکله

۱۴. ولې هیچا زرافې ته غوږ ونه نیوه؟

- ☐ A. هغی خپل وار پورې صبر ونکړ چی خبرې وکړی.
- ☐ B. هغی ډیری په غلی ډول خبری کولی او نه اوریدل کیدلی
- ☐ C. هغه ډیره اوږده وه
- ☐ D. هغه ټولنیز خوی نه درلود



نو زرافى به خپل اوږد څټ پورته کړ اوسرگردانه گرځيدله. هغې ټوله ورځ په ونو کې خپل سر سره د ونو نه د خوړو پاڼو په خوړلو سره تيره کړه.

هغه پدې نه پوهيده چې مرغان به په ونو کې د هغې سر په ناڅاپه ليدلو سره وويږي. يا په ځمکه ورو حيواناتو ددې ويږي چې تر پښو لاندې نشي تېښتيدل.

تر څه مودې وروسته، تنها زرافى نورو سره د خبرو کولو نه ډډه وکړه. دغې هڅې د وچ اوږي تر پايله پورې دوام وموند.

۱۵. کومې پاڼې به زرافى خوړلي؟

A. ☐ زيرې شوى B. ☐ تر ټولو خوړى C. ☐ يواځې D. ☐ وچې

۱۶. ولې د ځمکې د پاسه حيوانات د زرافى څخه ډاريدل؟

- A. ☐ هغه به ناڅاپه راڅرگنده شوه  
 B. ☐ هغې غټ څټ درلود  
 C. ☐ هغې شايد تر پښو لاندې کړى وى  
 D. ☐ هغې د هغوى ټولې پاڼې وخوړلې

۱۷. زرافى په ټول اوږي کې د څه کولو څخه ډډه وکړه؟

- A. ☐ دسرگردانه گرځيدو څخه  
 B. ☐ د مرغانو ويړولو څخه  
☐ څاپه څرگنديدلو څخه په ونو کې نا  
 D. ☐ هيچا سره د خبرو کولو څخه



بیا د ورینت موسم راغی. ورینت څو ورځو پورې وورید. څاروی د بوټو لاندې سره یو ځای ناست ول. نو پیرانگ د لری نه یو د غوراری غږ واورید خو هیڅوک پری پوه نشو چی دا څه ؤ.

زرافی د نورو څارویو خپل سر تیر او ویی کتل. د هغې غټې سترګې داسی وغوړیدې لکه بشقاب او بیا یی ورو ورو ځان بښکته کړ ترڅو یی نور څاروی غږ واورې. ”په سیند کې سیلاب راغلی“ زرافی وویل ”یو لوی سیلاب په خور کی راروان دی او ډیر ژر به دلته راورسیږي.“

اوس خو ډیر ناوخته دی چی وتښتو ”هوسی پوښتنه وکړه. “اوس به مونږ څه کوو؟

۱۸. ولي سره څاروي د بوټو لاندې يوځای را ټول شوو ؤ؟

A □ باران وریده B □ هغوی د زرافې نه ویریدلي ؤ

C □ هغوي يو غورار واورید D □ هغوي ته سخته وه چی په ونو وخیږي

۱۹. ”د هغې سترګې لکه د بشقاب غوړیدلی وی.“ د کیسی دغه کلمات تاسو ته د زرافې په اړه څه وایی؟

A □ هغه خوشاله ؤ B □ هغه ټکان خوړلي ؤ

C □ هغه په قهر ؤ D □ هغه هیجانی ؤ

۲۰. د څه له وجې د غوراری اواز د لری نه اوریدل کیده؟

A □ پیرانگ B □ سیلاب C □ د شادی (بیزو) D □ د ونې غورځیدو نه



دلته راوخیږئ، بیزو د ونې له پاسه غږ وکړ.  
 ”سیلاب به د ونو لوړو څوکو ته راونه رسیږی.“



حيواناتو د ونو خواته منډې کړی. خو د هغوی نه ځینی د بنویی ونې په تنه نشو ختلای. د هغوی د پښو تلی او لکی ونو ختلو ته نه و جوړ شوی.

۲۱. چا حیواناتو ته وویل چی د ونو سرونو ته وخیږئ؟

A. زرافی ☐ B. پیرانگ ☐

C. گیدرې ☐ D. بیزو ☐

۲۲. ولی حیواناتو د ونو سرونو ته د ختلو هڅه کوله؟

A. چی د اوبو نه ځان وژغوری ☐ B. چی دره وگوری ☐

C. چی خوړو پانو ته ځان ورسوی ☐ D. چی د پیرانگ څخه ځان پټ کړی ☐

۲۳. ولی ځینی حیواناتو نشو کولای چی د بنویو ونو په تنو پاس ونی ته وخیږي؟

A. ځکه چی هغوي ویریدلی و ☐

B. ځکه چی سخته وه چی ونې ته وخیږي ☐

C. د هغوي د پښو تلیو او لکیو له وجې ☐

D. د سیلاب له وجې ☐



افغانستان صابر خدمات وړاندې کونکي

د پوهنې سروې

**2017**

**مادپول 5ب – د زده کونکي ارزونه**

**ژبه**



## تیر مالومات (بک گراونڈ)

د 4 - 1 پوښتنې باید د مرکې څخه مخکې بشپړ شي

مرکه کونکي له پاره نوټ: مهرباني وکړئ ټول ځوابونه په واضح ډول یوازې په لویو حروفو باندې ولیکئ

نوم (نومونه)		کوډ
1.	د مرکه کوونکي نوم	_____
2.	د ښوونځي نوم او د سروې کوډ	_____
3.	د ښونځي EMIS کوډ او د ثبت شمېره	_____
4.	نېټه	_____ ورځ/میاشت/کال (مثال: 16/10/15)
5.	د مرکې پیل	وخت په 24 ساعتونو (مثال: ۰۸:۳۰)
6.	د مرکې پای	وخت په 24 ساعتونو (مثال: 14:30)

څارنه/نظارت			کوډ	ځواب	لاسلیک	نېټه ورځ/میاشت/کال (مثال: ۱۵/۱۰/۱۶)
				1.		2.
7.	a. مرکه کوونکي	د پوښتنلیک تصديق	کوډونه : ۱ = بشپړ شوي پوښتنلیک ۲ = نا بشپړ شوي پوښتنلیک ۳ = تړل شوي ښوونځي ۴ = رد شوي	_____		_____
	b. سوپروایزر			_____		_____
	c. کمپیوټرکار			_____		_____

ID:	زده کونکی نوم
-----	---------------

**30 دقیقو کی بشپړ کړئ:****لوست****الف برخه:**

د بکس څخه سمه کلمه انتخاب کړئ او په خالی ځایونو کی یی وکاروئ ترڅو کیسه بشپړ شی.

کرل، په، فارم، پلار

زما مور او پلار بزگران دی. د هغوی (۱) \_\_\_\_\_ غټ ندی. هغوی جوار او پنبه (۲) \_\_\_\_\_ تیر کال هغوی ډیر کم اندازه غذا درلوده. ددې وجه دا وه چی (۳) \_\_\_\_\_ مریض شوی ؤ او مور (۴) \_\_\_\_\_ یواځې ډول فارم کي کار کاوه.

**ب برخه:****گرامر**

سم ځواب انتخاب کړئ او د هغې نمبر په درکړل شوی ځواب پاڼه کي ولیکئ

۵. مونږ نورو سره د مورنۍ ژبی ..... اړیکی جوړوؤ.

☐ الف) واسطه ☐ ب) په واسطه ☐ ج) په واسطه ☐ د) په

۶. پرویز ..... صحرا ته بوتلل.

☐ الف) پسه ☐ ب) پسونه ☐ ج) کشتی ☐ د) کشتیاني

۷. مونږ باید ښه او نیک ..... ولرو.

☐ الف) اخلاق ☐ ب) مهربان ☐ ج) د باور وړ ☐ د) صداقت

۸. فریده ..... نفره وه چی د منډې په سیالی کی یی جایزه وگټله.

☐ الف) دریمه ☐ ب) دری ☐ ج) څلور ☐ د) هیسکله

۹. حمیده او شیدا دواړه ډیری زخمتکشي انجونې دی. دوی ..... سره مرسته کوي.

☐ الف) هغه ☐ ب) تاسو ☐ ج) مونږ ☐ د) هغوی

زمانی:

۱۰. د زانگو څخه تر قبره پوري علم ..... .

☐ الف) زده کوو ☐ ب) زده کړئ ☐ ج) زده به کړي ☐ د) زده کوي

۱۱. هغه پرون جومات ته ..... وه.

☐ الف) روانه وه ☐ ب) روان دی ☐ ج) روانه ده ☐ د) تللی وه

۱۲. زما مور نن کچالو ..... .

☐ الف) پخوي ☐ ب) پاڅه کړه ☐ ج) پاڅه به کړي ☐ د) پاڅه کړل

**ج برخه:**

لطفا لاندی مقاله در سره ولولئ او لاندی ورکړل شوو پوښتنو ته ځواب ورکړئ:

تنه زرافه (د پيتر بلايت لخوا، انځور شوی د مايکل ټيري لخوا)

د ځنگل څاروی سره یوه خوشاله ډله وه. ټول حیوانات به هر سهار سره لیدل او د ځنگل په اړه به یی خبرونه شریکول.

هر یو په خپل وار سره خبری وکړی خو هیچا زرافه ته غوړ ونه نیوه.

زرافه ډیره اوږده وه. کله چی زرافه غوښتل چی سر ټکته کړي او خبری وکړی نورو حیواناتو ورسره علاقه ونه بنوده.



۱۳. حیواناتو هر سهار د څه په هکله خبری کولی؟

- ☐ A. زرافه په هکله
- ☐ B. د پیرانگ په هکله
- ☐ C. د ځنگله په اړه خبرونه.
- ☐ D. د بیزو (شادی) په هکله

۱۴. ولې هیچا زرافه ته غوړ ونه نیوه؟

- ☐ A. هغی خپل وار پورې صبر ونکړ چی خبری وکړی.
- ☐ B. هغی ډیری په غلی ډول خبری کولی او نه اوریدل کیدلی
- ☐ C. هغه ډیره اوږده وه
- ☐ D. هغه ټولنیز خوی نه درلود



نو زرافى به خپل اوږد څټ پورته کړ اوسرگردانه گرځيدله. هغې ټوله ورځ په ونو کې خپل سر سره د ونو نه د خوړو پاڼو په خوړلو سره تيره کړه.

هغه پدې نه پوهيده چې مرغان به په ونو کې د هغې سر په ناڅاپه ليدلو سره وويږي. يا په ځمکه ورو حيواناتو ددې ويږي چې تر پښو لاندې نشي تښتيدل.

تر څه مودې وروسته، تنها زرافى نورو سره د خبرو کولو نه ډډه وکړه. دغې هڅې د وچ اوږي تر پايله پورې دوام وموند.

۱۵. کومې پاڼې به زرافى خوړلې؟

A. ☐ زيرې شوى      B. ☐ تر ټولو خوړى      C. ☐ يواځې      D. ☐ وچې

۱۶. ولې د ځمکې د پاسه حيوانات د زرافى څخه ډاريدل؟

A. ☐ هغه به ناڅاپه راڅرگنده شوه  
B. ☐ هغې غټ څټ درلود  
C. ☐ هغې شايد تر پښو لاندې کړى وى  
D. ☐ هغې د هغوى ټولې پاڼې وخوړلې

۱۷. زرافى په ټول اوږي کې د څه کولو څخه ډډه وکړه؟

A. ☐ دسرگردانه گرځيدو څخه  
B. ☐ د مرغانو ويړولو څخه  
C. ☐ څاپه څرگنديدلو څخه په ونو کې نا  
D. ☐ هيچا سره د خبرو کولو څخه



بیا د ورینت موسم راغی. ورینت څو ورځو پورې وورید. څاروی د بوټو لاندې سره یو ځای ناست ول. نو پیرانگ د لری نه یو د غوراری غږ واورید خو هیڅوک پری پوه نشو چی دا څه ؤ.

زرافی د نورو څارویو خپل سر تیر او ویی کتل. د هغې غټې سترګې داسی وغوړیدې لکه بشقاب او بیا یی ورو ورو ځان بښکته کړ ترڅو یی نور څاروی غږ واورې. ”په سیند کې سیلاب راغلی“ زرافی وویل ”یو لوی سیلاب په خوړ کی راروان دی او ډیر ژر به دلته راورسیږي.“

اوس خو ډیر ناوخته دی چی وتښتو ”هوسی پوښتنه وکړه. ”اوس به مونږ څه کوو؟

۱۸. ولي سره څاروي د بوټو لاندې يوځای را ټول شوو ؤ؟

A □ باران وریده B □ هغوی د زرافې نه ویریدلي ؤ

C □ هغوي يو غورار واورید D □ هغوي ته سخته وه چی په ونو وخیږي

۱۹. ”د هغې سترګې لکه د بشقاب غوړیدلی وی.“ د کیسی دغه کلمات تاسو ته د زرافې په اړه څه وایی؟

A □ هغه خوشاله ؤ B □ هغه ټکان خوړلي ؤ

C □ هغه په قهر ؤ D □ هغه هیجانی ؤ

۲۰. د څه له وجې د غوراری اواز د لری نه اوریدل کیده؟

A □ پیرانگ B □ سیلاب C □ د شادی (بیزو) D □ د ونې غورځیدو نه



دلته راوخیږئ، بیزو د ونې له پاسه غږ وکړ.  
 ”سیلاب به د ونو لوړو څوکو ته راونه رسیږی.“



حيواناتو د ونو خواته منډې کړی. خو د هغوی نه ځینی د بنویی ونې په تنه نشو ختلای. د هغوی د پښو تلی او لکی ونو ختلو ته نه و جوړ شوی.

۲۱. چا حیواناتو ته وویل چی د ونو سرونو ته وخیږئ؟

A. ☐ زرافې

B. ☐ پیرانگ

C. ☐ گیدرې

D. ☐ بیزو

۲۲. ولی حیواناتو د ونو سرونو ته د ختلو هڅه کوله؟

A. ☐ چی د اوبو نه ځان وژغوری

B. ☐ چی دره وگوری

C. ☐ چی خوړو پانو ته ځان ورسوی

D. ☐ چی د پیرانگ څخه ځان پټ کړی

۲۳. ولی ځینی حیواناتو نشو کولای چی د بنویو ونو په تنو پاس ونی ته وخیږي؟

A. ☐ ځکه چی هغوي ویریدلی و

B. ☐ ځکه چی سخته وه چی ونې ته وخیږي

C. ☐ د هغوي د پښو تلیو او لکیو له وجې

D. ☐ د سیلاب له وجې



افغانستان صابر خدمات وړاندې کونکي

د پوهنې سروی

**2017**

مادېول 5ج— د زده کونکي ارزونه

رياضی



## تیر مالومات (بک گراوند)

د 4 - 1 پوښتنې باید د مرکې څخه مخکې بشپړ شي

مرکه کونکي له پاره نوبت: مهرباني وکړئ ټول خوابونه په واضح ډول یوازې په لویو حروفو باندې ولیکئ

کود	نوم (نومونه)	
_____		1. د مرکه کونکي نوم
_____		2. د ښوونځي نوم او د سروې کود
_____		3. د ښوونځي EMIS کود او د ثبت شمېره
____/____/____	ورځ/میاشت/کال (مثال: 16/10/15)	4. نېټه
____:____:____	وخت په 24 ساعتونو (مثال: ۰۸:۳۰)	5. د مرکې پیل
____:____:____	وخت په 24 ساعتونو (مثال: 14:30)	6. د مرکې پای

نېټه ورځ/میاشت/کال (مثال: ۱۶/۱۰/۱۶)	لاسلیک	خواب	کود	څارنه/نظارت	
2.		1.			
____/____/____		____	کودونه: ۱ = بشپړ شوي پوښتنلیک	a. مرکه کونکي	7. د پوښتنلیک تصدیق
____/____/____		____	۲ = نا بشپړ شوي پوښتنلیک	b. سوپروایزر	
____/____/____		____	۳ = تړل شوي ښوونځي ۴ = رد شوي	c. کمپیوټرکار	

## د زده کونکي ارزوني لومړني مالومات

1.	زده کونکي نوم   _____	ID:   ____     ____
2.	څو کلن یی؟	____     ____
3.	هلک یی که جنی؟	<input type="checkbox"/> 1= هلک <input type="checkbox"/> 2= جنی
4.	تا سره په کور کې نور څوک وسپړي؟	<input type="checkbox"/> 1= زه د خپل پلار او مور دواړو سره اوسپړم <input type="checkbox"/> 2= د مور سره اوسپړم <input type="checkbox"/> 3= د پلار سره اوسپړم <input type="checkbox"/> 4= د خپل فامیل بل غړی سره اوسپړم <input type="checkbox"/> 5= یواځې اوسپړم <input type="checkbox"/> 6= د کار ځای کې اوسپړم
5.	په کور کې څو وروڼه او خويندې لري؟	____
6.	پلار دی څومره تحصیل کړيدي؟	<input type="checkbox"/> 1= بیسواد <input type="checkbox"/> 2= ابتداییه ښوونځی <input type="checkbox"/> 3= متوسطه <input type="checkbox"/> 4= دولسم پاس <input type="checkbox"/> 5= څوارلسم پاس <input type="checkbox"/> 6= لیسانس یا پورته
7.	مور دی څومره تحصیل کړيدي؟	<input type="checkbox"/> 1= بیسواد <input type="checkbox"/> 2= ابتداییه ښوونځی <input type="checkbox"/> 3= متوسطه <input type="checkbox"/> 4= دولسم پاس <input type="checkbox"/> 5= څوارلسم پاس <input type="checkbox"/> 6= لیسانس یا پورته
8.	ښوونځي ته د تگ لپاره د کوم ډول ترانسپورت څخه ګټه اخلي؟	<input type="checkbox"/> 1= پیاده/قدم وهل <input type="checkbox"/> 2= بایسکېل <input type="checkbox"/> 3= بس <input type="checkbox"/> 4= موټر سايکل <input type="checkbox"/> 5= تګسې <input type="checkbox"/> 6= موټر
9.	په څومره وخت کې ښوونځي ته رسپړي؟	____     ____   دقیقې
10.	آیا نن مو ښوونځي ته د راتلو څخه مخکې سهارنۍ ناشته کړي وه؟	<input type="checkbox"/> 1= هو، په کور کې مې کړې وه <input type="checkbox"/> 2= هو، په ښوونځي کې مې کړې وه <input type="checkbox"/> 3= نه
11.	آیا تیر کال هم پدې ښوونځي کې وئ؟	<input type="checkbox"/> 1= هو <input type="checkbox"/> 2= نه
12.	آیا کور کې د ویده کیدو لپاره یوه کوټه (طاق) لري؟	<input type="checkbox"/> 1= هو <input type="checkbox"/> 2= نه
13.	ستا په اطاق کې څو کسان ویده کيږي؟	____     ____
14.	کور کې په کومه ژبه خبرې کوي؟	<input type="checkbox"/> 1= دری <input type="checkbox"/> 2= پښتو <input type="checkbox"/> 3= ازبیکي <input type="checkbox"/> 4= ترکمني <input type="checkbox"/> 5= بلوچي <input type="checkbox"/> 6= پشه یی <input type="checkbox"/> 7= نورستاني <input type="checkbox"/> 8= هزاره ګی <input type="checkbox"/> 99= نور (مشخص کړئ)
15.	ښوونځي کې په کومه ژبه خبرې کوي؟	<input type="checkbox"/> 1= دری <input type="checkbox"/> 2= پښتو <input type="checkbox"/> 3= ازبیکي <input type="checkbox"/> 4= ترکمني <input type="checkbox"/> 5= بلوچي <input type="checkbox"/> 6= پشه یی <input type="checkbox"/> 7= نورستاني <input type="checkbox"/> 8= هزاره ګی <input type="checkbox"/> 99= نور (مشخص کړئ)

16.	په کور کې څو ځلې په پښتو/دری ژبه باندې خبرې کوي؟	<input type="checkbox"/> 1=تقریباً هره ورځ <input type="checkbox"/> 2= په هفته/ دوه هفته کې یو ځلې <input type="checkbox"/> 3= په میاشت کې یو ځلې <input type="checkbox"/> 4= هیڅکله هم نه
آیا د اوسیدلو په فعلی کور کې ورکړل شوی شیان لرئ؟		
17.	برېښنا (برق)	<input type="checkbox"/> 1=هو <input type="checkbox"/> 2= نه
18.	په کور کې د اوبو شتون	<input type="checkbox"/> 1=هو <input type="checkbox"/> 2= نه
19.	کنکریټی، سمیټي یا د تیگو څخه جوړ دیوالونه	<input type="checkbox"/> 1=هو <input type="checkbox"/> 2= نه
20.	اوسپنیز بام	<input type="checkbox"/> 1=هو <input type="checkbox"/> 2= نه
21.	تشناب	<input type="checkbox"/> 1=هو <input type="checkbox"/> 2= نه
22.	د خوب تخت	<input type="checkbox"/> 1=هو <input type="checkbox"/> 2= نه
23.	راډیو	<input type="checkbox"/> 1=هو <input type="checkbox"/> 2= نه
24.	تلویزیون	<input type="checkbox"/> 1=هو <input type="checkbox"/> 2= نه
25.	یخچال	<input type="checkbox"/> 1=هو <input type="checkbox"/> 2= نه
26.	موټر سايکل / موټر	<input type="checkbox"/> 1=هو <input type="checkbox"/> 2= نه
27.	حيوانات (اسپ، چرگان، بزې، پسونه )	<input type="checkbox"/> 1=هو <input type="checkbox"/> 2= نه
28.	کتابونه	<input type="checkbox"/> 1=هو <input type="checkbox"/> 2= نه
29.	گرځنده تلفون	<input type="checkbox"/> 1=هو <input type="checkbox"/> 2= نه
30.	کمپیوټر	<input type="checkbox"/> 1=هو <input type="checkbox"/> 2= نه
31.	څو ځلې د خپل ښوونځي کورنۍ دنده سرته رسوي؟	<input type="checkbox"/> 1=هره ورځ <input type="checkbox"/> 2= په هفته کې یو ځلې <input type="checkbox"/> 3= په هفته کې یو ځلې (ډیر کم) <input type="checkbox"/> 4= هیڅکله هم نه
32.	معمولا تاسو سره په کورنۍ دنده کې څوک مرسته کوي؟	<input type="checkbox"/> 1=هیڅوک هم نه <input type="checkbox"/> 2= وروڼه او خويندې <input type="checkbox"/> 3= مور او پلار <input type="checkbox"/> 4= ښوونکي <input type="checkbox"/> 5= نور (مشخص کړئ)
33.	د تحصیل لوړه سطحه چې تاسو یې لاس ته راوړل غواړئ کومه ده؟	<input type="checkbox"/> 1=ابتداییه <input type="checkbox"/> 2= متوسطه <input type="checkbox"/> 3= دولسم پاس <input type="checkbox"/> 4= څوارلسم پاس <input type="checkbox"/> 5= لیسانس <input type="checkbox"/> 6= ماسټري/ یا تر دې هم پورته
34.	په تیره میاشت کې، څو ورځې ښوونځي ته نه وی راغلي؟	<input type="checkbox"/> 1=هیڅکله <input type="checkbox"/> 2= د 1-5 ورځو ترمنځ <input type="checkbox"/> 3= د 5 ورځو څخه ډیر
35.	ستاسو د ریاضی ښوونکي نوم او کورنۍ نوم	پدې کال کې   _____ په تیر کال کې   _____
36.	ستاسو د ژبې (پښتو/دری) ښوونکي نوم او کورنۍ نوم	پدې کال کې   _____ په تیر کال کې   _____

## حرف، عدد او کلمه پیژندنه

۱. لطفا اعدادو نه دایره چاپیره کړئ چی ښوونکی یی درته یی ښایی.

۵۵	۳	۲۳
۴	۱۲	۶
۳۴	۲۱	۹

۲. لطفا حروفو نه دایره چاپیره کړئ چی ښوونکی یی درته یی ښایی.

ل	ع	ح
ف	ذ	و
ا	س	ث

۳. لطفا کلمو نه دایره چاپیره کری چی بنوونکی یی درته یی بنایی.

کیسه	درناوی	لاندي
روغ پر	شین	کیلی
بیرون	پلار	مپوه

۴. لطفا هغه انځور نه دایره چاپیره کری چی بنوونکی یی ذکر کوي.



## ریاضی

۵. لطفا، دغہ اعداد پہ صحیح ردیف کی سرہ جوړ کری، د وړوکی نه لوی عدد خواته

۱۱۷      ۹۸۷      ۱۷      ۲      ۵۵      ۱۳۳

خواب:

۶. لاندی مساواتو/معادلو ته صحیح خواب ورکړئ:

خواب	مساوات
	$8+7$
	$28+27$
	$335+145$
	$8-5$
	$57-49$
	$443-122$



۷. لاندی مساواتو/معادلو ته صحیح جواب ورکړئ:


مساوات	جواب
$7 \times 8 =$	
$37 \times 40 =$	
$214 \times 104 =$	
$\begin{array}{r} 6 \quad   \quad 3 \\ \hline \end{array}$	
$\begin{array}{r} 75 \quad   \quad 5 \\ \hline \end{array}$	
$\begin{array}{r} 369 \quad   \quad 3 \\ \hline \end{array}$	

۸. دری زرہ او درویشٹ پہ لاندې ډول لیکل کیږی:

- A. ☐ ۳۲۳  
B. ☐ ۳۰۲۳  
C. ☐ ۳۰۰۲۳  
D. ☐ ۳۰۰۰۲۳

خواب: \_\_\_\_\_

۹. د کوم مستطیل  $\frac{1}{3}$  برخه خړه شویده؟



خواب: \_\_\_\_\_

۱۰. علی ۱۶ مڼې درلودې. هغی ۴ مڼې ترې ایسته کړې. وروسته، علی باقی مڼې په مساوی ډول په دوه ټوکریو کې وویشلې. علی په هره ټوکری کې څو دانې مڼې واچولې؟

- A. ☐ ۶  
B. ☐ ۸  
C. ☐ ۱۰  
D. ☐ ۱۲

خواب: \_\_\_\_\_

۱۱. حنیف د بیلگی یو عدد په لیکلو پیل وکړ.

۶, ۱۳, ۲۰, ۲۷, ...

هغی هر ځل هماغه عدد سره جمع کړ ترڅو بل عدد لاس ته راوړي. کوم عدد به ددې بیلگی به هغه ولیکی؟

خواب: \_\_\_\_\_

۱۲. دغه وخت کی بکتاش د خور کور ته په قدم وهلو پیل وکړ.

دی قدم وهلو 45 دقیقې وخت ونيوه. په کوم ساعت کی بکتاش د خور کور ته ورسید؟



A. ☐ ۸:۲۵

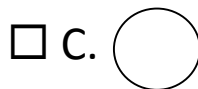
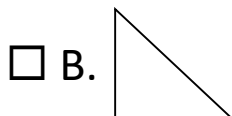
B. ☐ ۶:۳۵

C. ☐ ۷:۲۰

D. ☐ ۵:۴۰

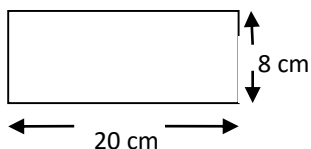
خواب: \_\_\_\_\_

۱۳. کوم یو د لاندې شکلونو نه مربع شکل لری؟



خواب: \_\_\_\_\_

۱۴. ددی مستطیل مربع مساحت څومره دی؟



- ☐ A. ۵۶ سانتی متر
- ☐ B. ۱۶۰ سانتی متر
- ☐ C. ۵۶ سانتی متر مربع
- ☐ D. ۱۶۰ سانتی متر مربع

خواب: \_\_\_\_\_

۱۵. بکاری 5 کتابچې واخسیتلی چی هره کتابچه 250 افغانی قیمت لري، په مجموع کې څومره پیسې یی ورکړې؟

خواب: \_\_\_\_\_

۱۶. کہ چیری تاسو 2,000 متره په کیلومتر واپړوئ، مساوی به یی څومره وی؟

- ☐ A. ۲۰ کیلومتر  
☐ B. ۰,۲ کیلومتر  
☐ C. ۲۰۰۰۰۰۰ کیلومتر  
☐ D. ۲ کیلومتر

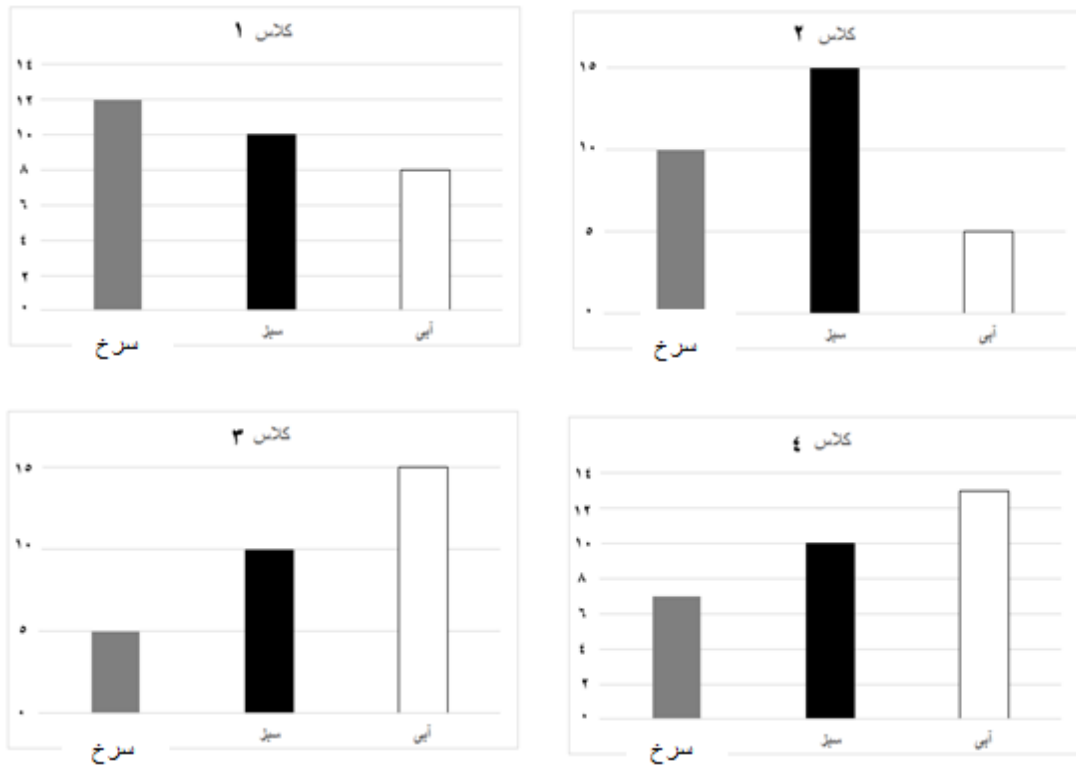
خواب: \_\_\_\_\_

۱۷. ډیوډ 4.8 کیلومتره په موټر سفر وکړ او 1.5 کیلومتره په موټر سايکل سفر وکړ. ډیوډ مجموعه څومره فاصله سفر کړی؟

- ☐ A. ۶,۳ کیلومتر  
☐ B. ۵,۸ کیلومتر  
☐ C. ۵,۱۳ کیلومتر  
☐ D. ۴,۹۵ کیلومتر

خواب: \_\_\_\_\_

۱۸. بکتاش په څلورو ټولګیو کې د زده کوونکو د خوښې رنګ لپاره یوه سروې ترسره کړه .



(i) په کوم ټولګی کې ډیرو لږو زده کوونکو آبی رنګ خوښ کړې؟

A. صنف ۱ ☐

B. صنف ۲ ☐

C. صنف ۳ ☐

D. صنف ۴ ☐

(ii) کله چی څلور واړه ټولګی جمع شی اکثره زده کوونکو کوم رنګ ته ډیره ترجیح ورکړې ده؟

A. (سور) قرمز ☐

B. سبز (شین) ☐

C. آبی ☐



افغانستان صابر خدمات وړاندې کونکي

د پوهنې سروی

**2017**

مادېول 5ج— د زده کونکي ارزونه

رياضی



## تیر مالومات (بک گراونڈ)

د 4 - 1 پوینتی باید د مرکي څخه مخکې بشپړ شي

مرکه کونکي له پاره نوبت: مهرباني وکړئ ټول خوابونه په واضح ډول یوازې په لویو حروفو باندې ولیکئ

کود	نوم (نومونه)	
_____		1. د مرکه کونکي نوم
_____		2. د بشونځي نوم او د سروې کود
_____		3. د بشونځي EMIS کود او د ثبت شمېره
____/____/____	ورځ/میاشت/کال (مثال: 16/10/15)	4. نیټه
____:____:____	وخت په 24 ساعتونو (مثال: ۰۸:۳۰)	5. د مرکي پیل
____:____:____	وخت په 24 ساعتونو (مثال: 14:30)	6. د مرکي پای

نیټه ورځ/میاشت/کال (مثال: ۱۶/۱۰/۱۶)	لاسلیک	خواب	کود	څارنه/نظارت	
2.		1.			
____/____/____		____	کودونه: ۱ = بشپړ شوي پوښتنلیک	a. مرکه کونکي	7. د پوښتنلیک تصدیق
____/____/____		____	۲ = نا بشپړ شوي پوښتنلیک	b. سوپروایزر	
____/____/____		____	۳ = تړل شوي بشونځي ۴ = رد شوي	c. کمپیوټرکار	



1. زده کونکی نوم   _____	ID:   _____
--------------------------	-------------

په 30 دقیقې کې بشپړ کړئ :

ریاضی

۵. لطفا، دغه اعداد په صحیح ردیف کی سره جوړ کړئ، د وړوکی نه لوی عدد خواته

۱۱۷      ۹۸۷      ۱۷      ۲      ۵۵      ۱۳۳

خواب: \_\_\_\_\_

۶. لاندی مساواتو/معادلو ته صحیح خواب ورکړئ:

خواب	مساوات
	$8+7$
	$28+27$
	$330+140$
	$8-5$
	$57-49$
	$443-122$

۷. لاندی مساواتو/معادلو ته صحیح خُواب ورکړئ:


خُواب	مساوات
	$7 \times 8 =$
	$37 \times 40 =$
	$214 \times 104 =$
	$\begin{array}{r} 6 \quad   \quad 3 \\ \hline \end{array}$
	$\begin{array}{r} 75 \quad   \quad 5 \\ \hline \end{array}$
	$\begin{array}{r} 369 \quad   \quad 3 \\ \hline \end{array}$

۸. دری زره او درویشته په لاندې ډول لیکل کیږی:

- A. ☐ ۳۲۳  
B. ☐ ۳۰۲۳  
C. ☐ ۳۰۰۲۳  
D. ☐ ۳۰۰۰۲۳

خواب: \_\_\_\_\_

۹. د کوم مستطیل  $1/3$  برخه خړه شویده؟



خواب: \_\_\_\_\_

۱۰. علی ۱۶ مڼې درلودې. هغی ۴ مڼې ترې ایسته کړې. وروسته، علی باقی مڼې په مساوی ډول په دوه ټوکریو کې وویشلې. علی په هره ټوکری کې څو دانې مڼې واچولې؟

- A. ☐ ۶  
B. ☐ ۸  
C. ☐ ۱۰  
D. ☐ ۱۲

خواب: \_\_\_\_\_

۱۱. حنیف د بیلگی یو عدد په لیکلو پیل وکړ.

۶, ۱۳, ۲۰, ۲۷, ...

هغی هر ځل همغه عدد سره جمع کړ ترڅو بل عدد لاس ته راوړي. کوم عدد به ددې بیلگی به هغه ولیکی؟

خواب: \_\_\_\_\_

۱۲. دغه وخت کی بکتاش د خور کور ته په قدم وهلو پیل وکړ.

دی قدم وهلو 45 دقیقې وخت ونيوه. په کوم ساعت کی بکتاش د خور کور ته ورسید؟



A. ☐ ۸:۲۵

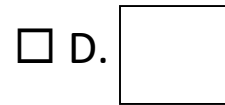
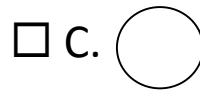
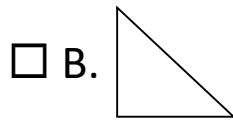
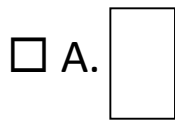
B. ☐ ۶:۳۵

C. ☐ ۷:۲۰

D. ☐ ۵:۴۰

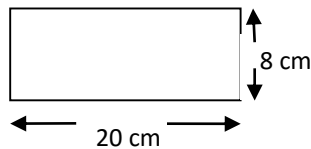
خواب: \_\_\_\_\_

۱۳. کوم یو د لاندې شکلونو نه مربع شکل لری؟



خواب: \_\_\_\_\_

۱۴. ددی مستطیل مربع مساحت څومره دی؟



- ☐ A. ۵۶ سانتی متر  
☐ B. ۱۶۰ سانتی متر  
☐ C. ۵۶ سانتی متر مربع  
☐ D. ۱۶۰ سانتی متر مربع

خواب: \_\_\_\_\_

۱۵. بکاری 5 کتابچې واخسیتلی چې هره کتابچه 250 افغانی قیمت لري، په مجموع کې څومره پیسې یې ورکړې؟

خواب: \_\_\_\_\_

۱۶. کہ چیری تاسو 2,000 متره په کیلومتر واپړوئ، مساوی به یی څومره وی؟

- ☐ A. ۲۰ کیلومتر  
☐ B. ۰,۲ کیلومتر  
☐ C. ۲۰۰۰۰۰۰ کیلومتر  
☐ D. ۲ کیلومتر

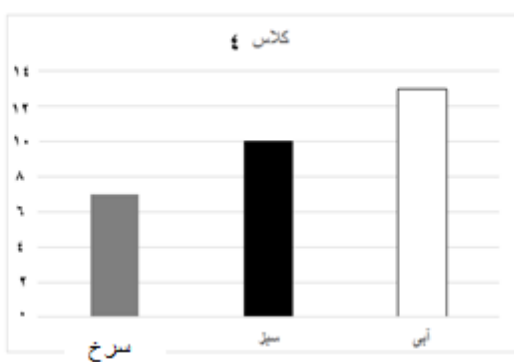
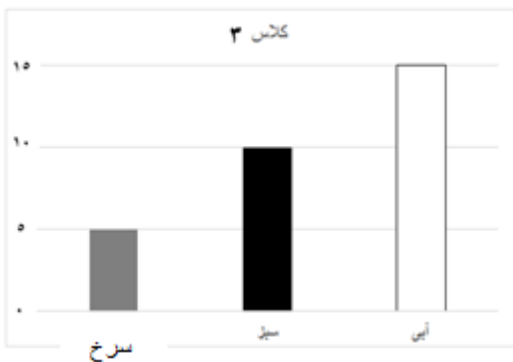
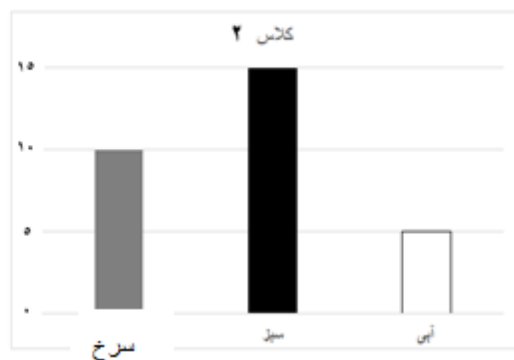
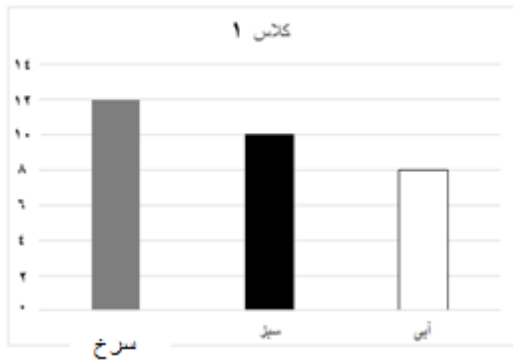
خواب: \_\_\_\_\_

۱۷. ډیوډ 4.8 کیلومتره په موټر سفر وکړ او 1.5 کیلومتره په موټر سايکل سفر وکړ. ډیوډ مجموعه څومره فاصله سفر کړی؟

- ☐ A. ۶,۳ کیلومتر  
☐ B. ۵,۸ کیلومتر  
☐ C. ۵,۱۳ کیلومتر  
☐ D. ۴,۹۵ کیلومتر

خواب: \_\_\_\_\_

۱۸. بکتاش پہ څلورو ټولگیو کې د زده کوونکو د خوښې رنگ لپاره یوه سروې ترسره کړه .



(i) په کوم ټولگی کې ډیرو لږو زده کوونکو آبی رنگ خوښ کړی؟

A. صنف ۱ ☐

B. صنف ۲ ☐

C. صنف ۳ ☐

D. صنف ۴ ☐

(ii) کله چی څلور واړه ټولگی جمع شی اکثره زده کوونکو کوم رنگ ته ډیره ترجیح ورکړی ده؟

A. (سور) قرمز ☐

B. سبز (شین) ☐

C. آبی ☐