

8–9 tahun

TES KEMAMPUAN SISWA PAKET A



Survei Endline

Program Pendidikan dan Pengembangan

Anak Usia Dini

2013

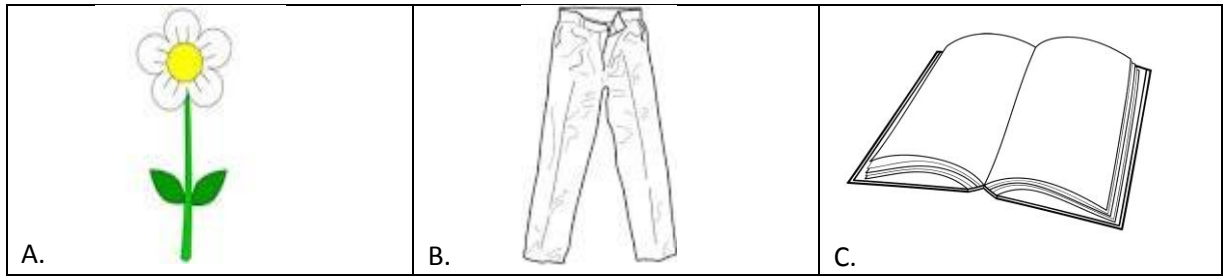
PETUNJUK UMUM

1. Ikuti arahan pengawas untuk mengisikan identitasmu ke dalam Lembar Jawaban yang tersedia dengan menggunakan pensil.
2. Tersedia waktu 75 menit untuk mengerjakan 3 (tiga) kelompok soal dalam paket tes ini. Yaitu Kemampuan Bahasa ada 21 (dua puluh satu) soal selama 25 menit, Matematika ada 25 (dua puluh lima) soal selama 25 menit dan Raven Tes ada 18 (delapan belas) soal selama 25 menit.
3. Periksa dan bacalah soal – soal sebelum kamu menjawabnya. Mulailah mengerjakan soal yang mudah terlebih dahulu.
4. Tuliskan jawabanmu hanya di dalam Lembar Jawaban. Buku soal tidak boleh dicoret-coret.
5. Untuk soal pilihan ganda, tersedia 3 (tiga) pilihan jawaban untuk setiap butir soal. Pilihlah salah satu jawaban yang kamu anggap paling benar, kemudian **silanglah kotak** pilihan jawabanmu pada lembar jawaban **sesuai dengan nomor soal**.
6. Untuk soal tanpa pilihan jawaban, tuliskan jawabanmu pada lembar jawaban **sesuai dengan nomor soal**.
7. Tidak diizinkan menggunakan kalkulator, tabel matematika atau alat bantu hitung lainnya. Mintalah kertas buram kepada pengawas tes, bila diperlukan.
8. Laporkan kepada pengawas apabila terdapat lembar soal yang kurang jelas, rusak, atau tidak lengkap.
9. Periksalah pekerjaanmu sebelum diserahkan kepada pengawas.

KEMAMPUAN BAHASA

Pilih gambar yang memiliki huruf awalan yang berbeda


1.



2.

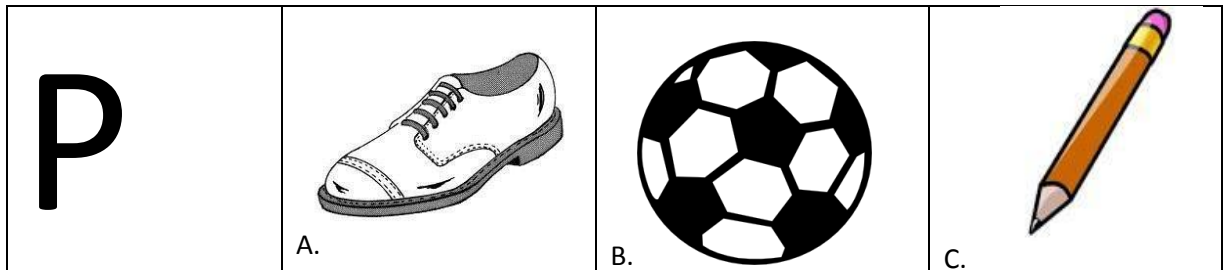


3.

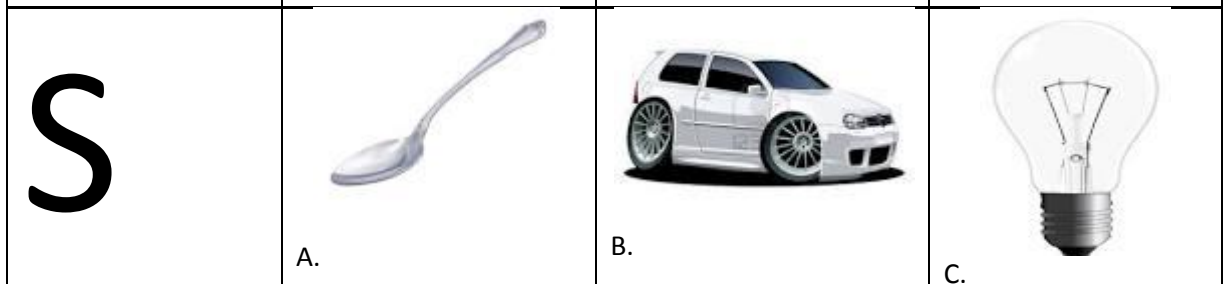


Pilih gambar yang huruf awalnya sama dengan huruf yang ada di kotak sebelah kiri

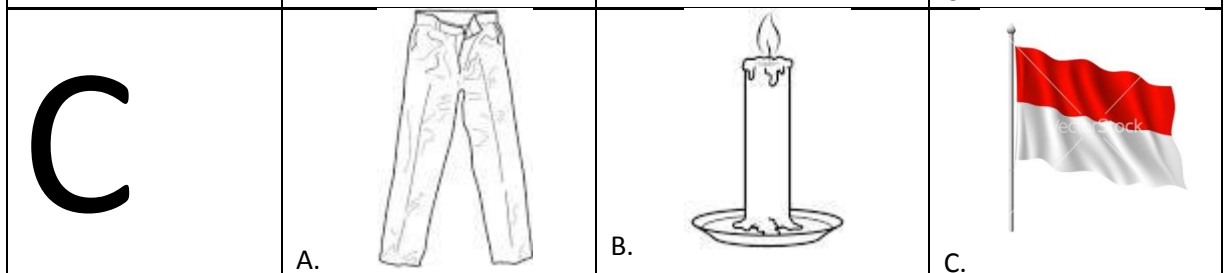
4.



5.



6.



Tuliskan nama benda di bawah ini :

Contoh :



..... **b o l a**

7.



.....

8.



.....

9.



.....

10.



.....

bacalah bacaan berikut, kemudian jawablah soal nomor 11, 12, dan 13!

ibu mengajak ani pergi ke pasar.

ani memakai baju warna kuning.

ibu memakai baju warna merah.

di pasar ibu membeli sayuran seperti wortel, bayam, dan tomat.

ibu juga membeli pisang dan jambu.

sekarang keranjang ibu sudah penuh buah-buahan dan sayuran.

ibu dan ani kemudian pulang.

11. siapa yang memakai baju warna kuning?

- A. ibu
- B. ani
- C. kakak

12. apa saja yang dibeli ibu di pasar?

- A. minyak goreng dan buah jeruk.
- B. sayuran dan bumbu masak.
- C. buah-buahan dan sayuran.

13. baju warna apa yang dipakai ibu?

- A. merah
- B. kuning
- C. hijau

bacalah bacaan berikut, kemudian jawablah soal nomor 14, 15 dan 16!

mulai sekolah

hari rabu nina mulai sekolah.

nina duduk di kelas satu.

nina berangkat bersama teman.

hati nina merasa senang.

14. siapa yang duduk di kelas satu?

- A. nina
- B. nani
- C. nana

15. kapan nina mulai masuk sekolah?

- A. hari senin
- B. hari selasa
- C. hari rabu

16. bagaimana perasaan nina waktu berangkat sekolah?

- A. sedih
- B. senang
- C. kecewa

17. anto sedang ... di kamar mandi.

- A. berdiri
- B. main
- C. mandi



bacalah bacaan berikut, kemudian jawablah soal nomor 18 sampai dengan 21 !

desa bibi

bibi tinggal di desa.

taruna nama desa bibi.

desa bibi udaranya sejuk.

bibi menanam ubi pada pagi hari.

susan dan deni juga tinggal di desa.

di desa tidak banyak mobil.

di desa banyak delman.

18. apa yang ditanam bibi?

- A. rumput
- B. ubi
- C. bunga

19. bagaimana udara di desa bibi?

- A. sejuk
- B. panas
- C. hangat

20. di mana bibi tinggal?

- A. di kota
- B. di desa
- C. di hutan



21. kapan bibi menanam ubi?

- A. pagi hari
- B. siang hari
- C. sore hari



MATEMATIKA

Hitunglah penjumlahan seperti contoh berikut ini

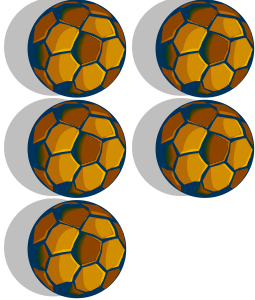
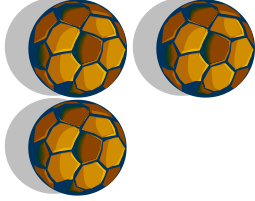
Contoh :

	+		=	3
---	---	---	---	---



22.

	+		=	_____
---	---	--	---	-------



23.

	+		=	_____
--	---	---	---	-------

24.



	+		=	_____
---	---	--	---	-------

25.



	+		=	_____
---	---	--	---	-------

Hitunglah pengurangan seperti contoh berikut ini



contoh :

	<div style="border: 1px solid black; width: 40px; height: 40px; display: flex; align-items: center; justify-content: center;">-</div>		<div style="border: 1px solid black; width: 40px; height: 40px; display: flex; align-items: center; justify-content: center;">=</div>	<div style="border-bottom: 1px solid black; width: 40px; display: inline-block;">4</div>
---	---	--	---	--



26.

	<div style="border: 1px solid black; width: 40px; height: 40px; display: flex; align-items: center; justify-content: center;">-</div>		<div style="border: 1px solid black; width: 40px; height: 40px; display: flex; align-items: center; justify-content: center;">=</div>	<div style="border-bottom: 1px solid black; width: 40px; display: inline-block;"></div>
---	---	--	---	---



27.

	<div style="border: 1px solid black; width: 40px; height: 40px; display: flex; align-items: center; justify-content: center;">-</div>		<div style="border: 1px solid black; width: 40px; height: 40px; display: flex; align-items: center; justify-content: center;">=</div>	<div style="border-bottom: 1px solid black; width: 40px; display: inline-block;"></div>
--	---	---	---	---

28.


	<div style="border: 1px solid black; width: 40px; height: 40px; display: flex; align-items: center; justify-content: center;">-</div>		<div style="border: 1px solid black; width: 40px; height: 40px; display: flex; align-items: center; justify-content: center;">=</div>	<div style="border-bottom: 1px solid black; width: 40px; display: inline-block;"></div>
---	---	--	---	---

29.

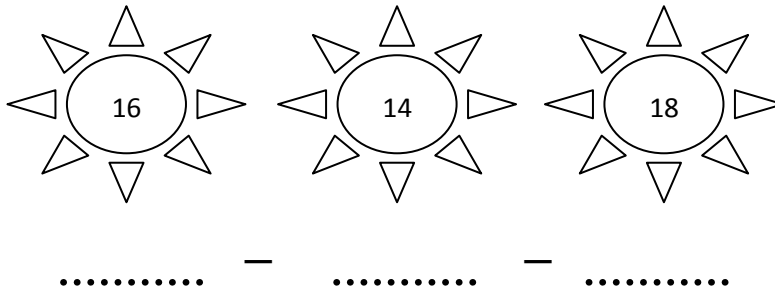
	<div style="border: 1px solid black; width: 40px; height: 40px; display: flex; align-items: center; justify-content: center;">-</div>		<div style="border: 1px solid black; width: 40px; height: 40px; display: flex; align-items: center; justify-content: center;">=</div>	<div style="border-bottom: 1px solid black; width: 40px; display: inline-block;"></div>
---	---	--	---	---

Urutkan angka dalam gambar dimulai dari angka yang paling kecil


Contoh :



30.

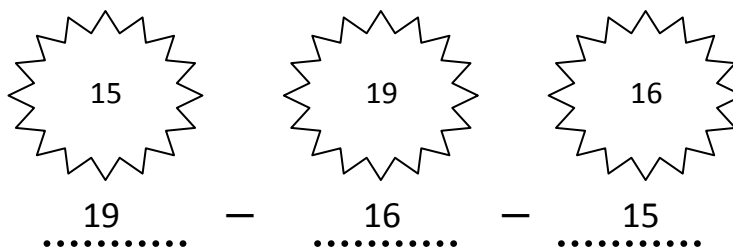


31.




Urutkan angka dalam gambar dimulai dari angka yang paling besar


Contoh :



32.



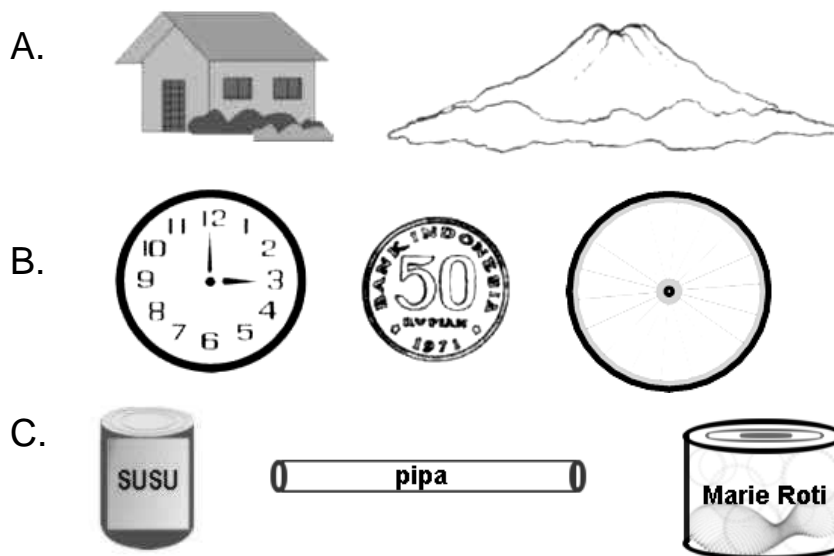
33.



34. ayah mempunyai 5 jeruk. ayah membeli lagi 10 jeruk.
berapa banyak jeruk ayah?

A. 5 jeruk
B. 10 jeruk
C. 15 jeruk


35. benda-benda di bawah ini yang berbentuk tabung adalah



36. lambang bilangan tujuh belas adalah

A. 17
B. 27
C. 71

37. perhatikan gambar!



manakah urutan bilangan dari yang terkecil ke yang terbesar?

A. 32 , 23 , 13
B. 13 , 23 , 32
C. 13 , 32 , 23

38. hasil dari 9 ditambah 11 adalah

- A. 20
- B. 19
- C. 10

39. berapakah 17 dikurang 2?

- A. 19
- B. 15
- C. 5

40. budi mempunyai tiga belas kelereng.
kakak budi memberi enam kelereng.
berapa jumlah kelereng budi sekarang?

- A. 7 buah
- B. 13 buah
- C. 19 buah

41. nina mempunyai 10 pensil.
2 pensilnya diberikan kepada budi.
3 pensilnya lagi diberikan kepada wati.
banyak pensil nina sekarang ada

- A. 5 buah
- B. 7 buah
- C. 8 buah


42. hasil dari $21 + 23 = \dots$

- A. 54
- B. 44
- C. 34

43. di danau terdapat 47 ekor bebek sedang berenang.
beberapa ekor bebek pergi dari danau.
yang tersisa di danau 23 ekor bebek.
berapa banyak bebek yang pergi dari danau?
- A. 24 ekor bebek
 - B. 20 ekor bebek
 - C. 14 ekor bebek

44. ayah tiba di rumah pada hari kamis.
empat hari lagi ayah pergi tugas ke bali.
ayah pergi tugas ke bali pada hari
- A. minggu
 - B. senin
 - C. selasa

45. perhatikan gambar berikut!

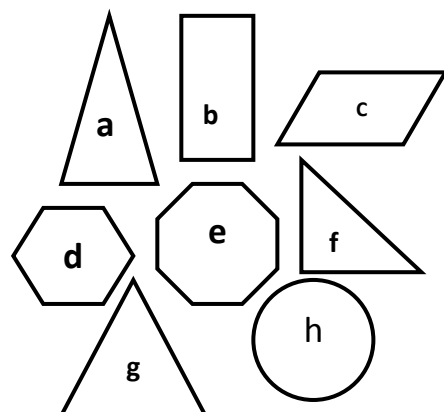


manakah benda dalam gambar yang lebih berat dari bola?

- A. sepeda
- B. kacamata
- C. peniti

46. perhatikan gambar berikut!
manakah bangun datar yang namanya
segitiga?

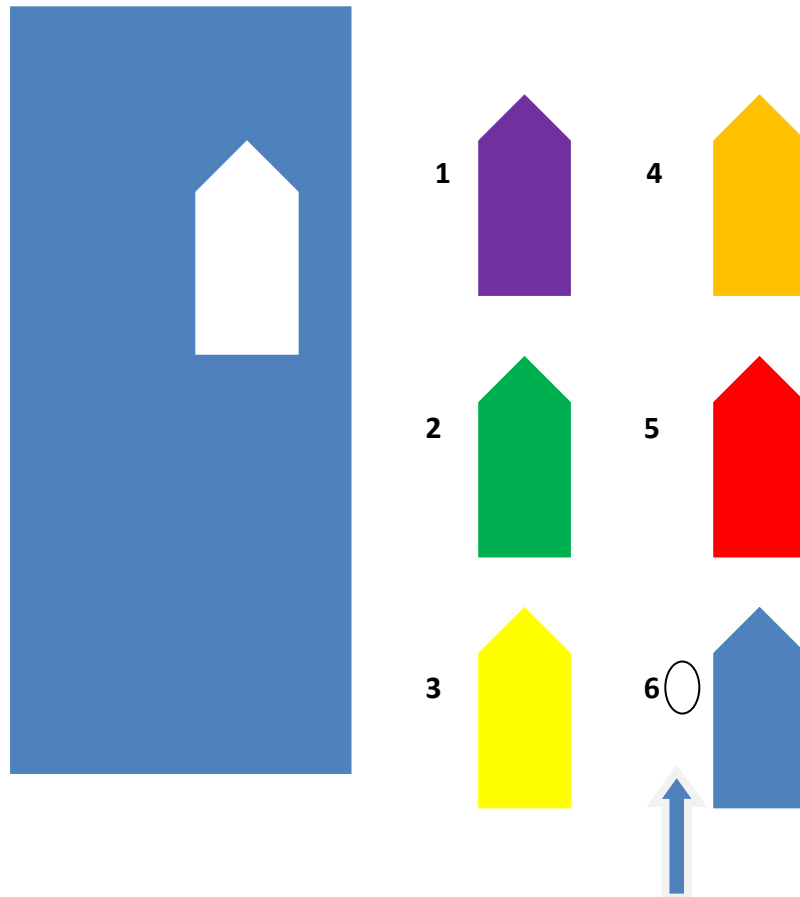
- A. a , e, dan h
- B. a , f, dan g
- C. b , c, dan d



Ravens Test

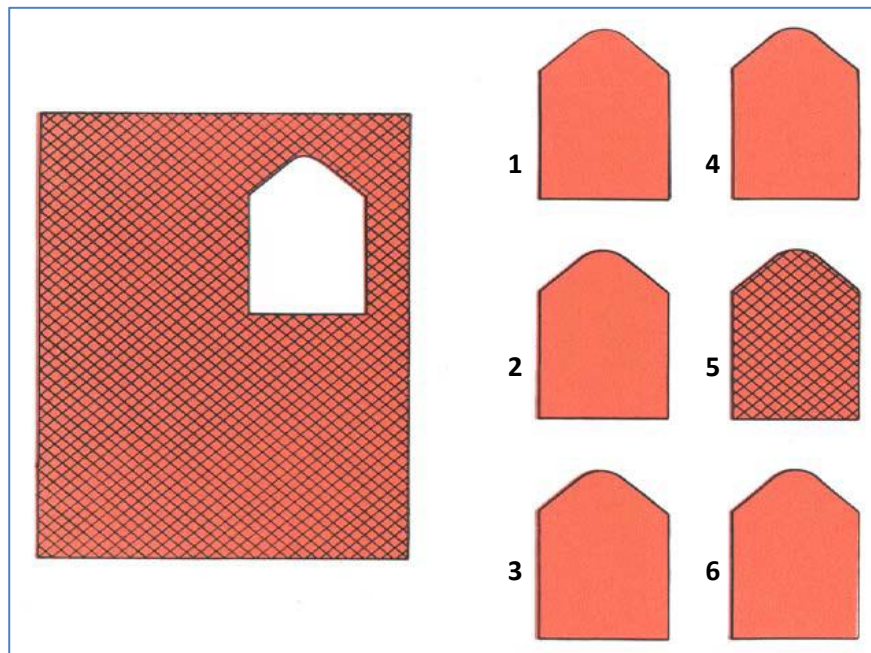
Pilih satu bentuk yang tepat untuk melengkapi gambar seperti dalam contoh gambar di bawah.

Contoh :

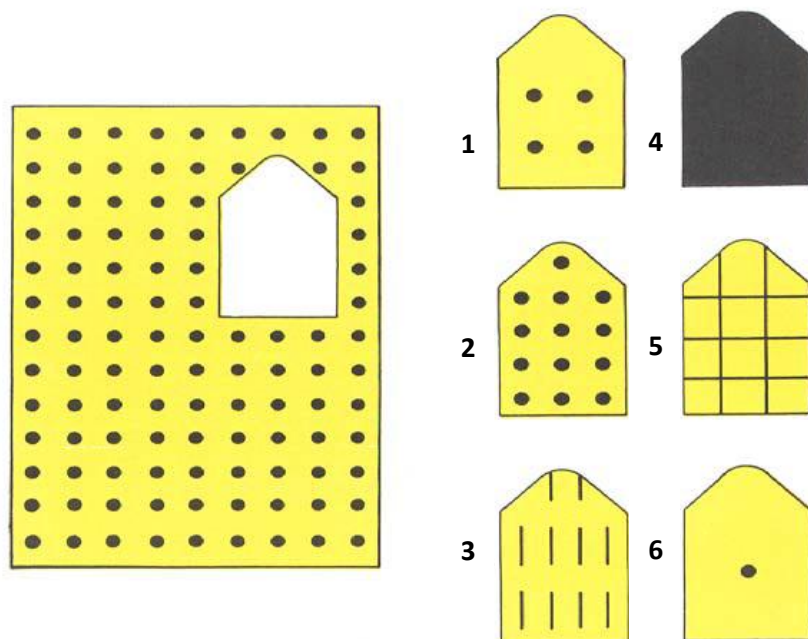


47.


ra



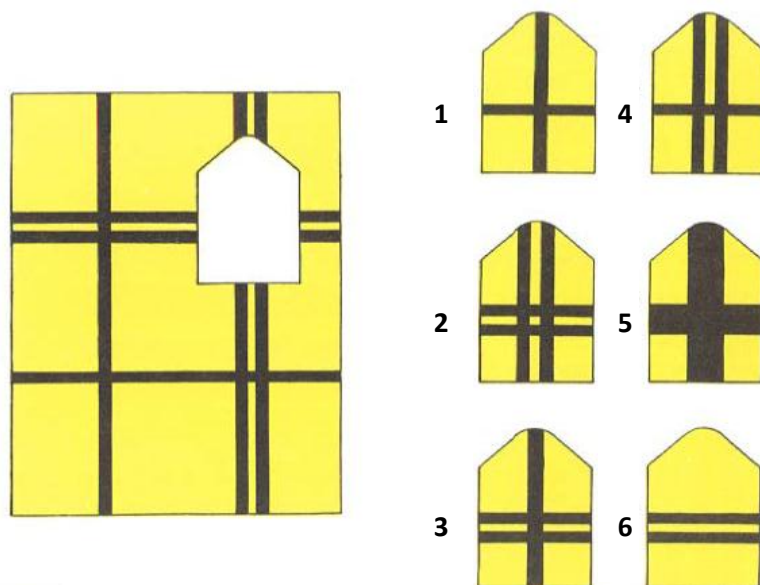
48.



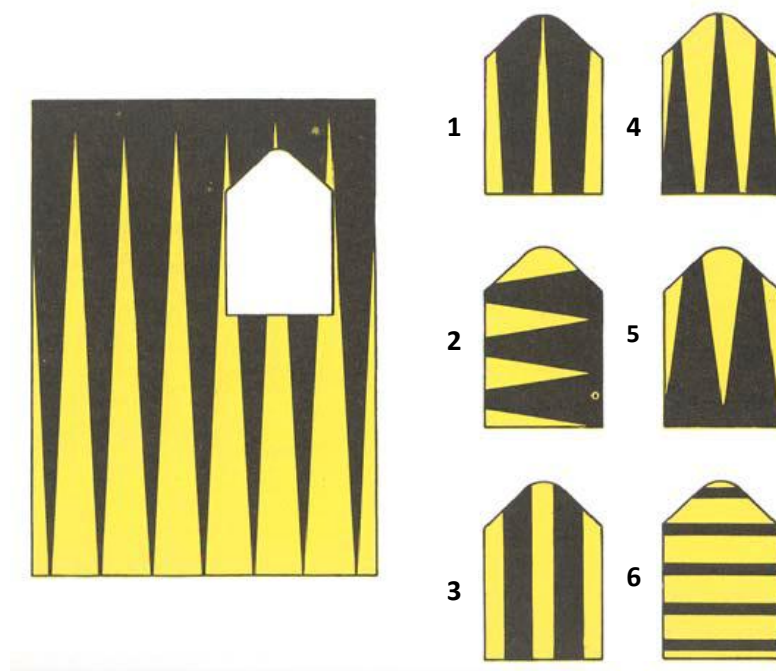
49.



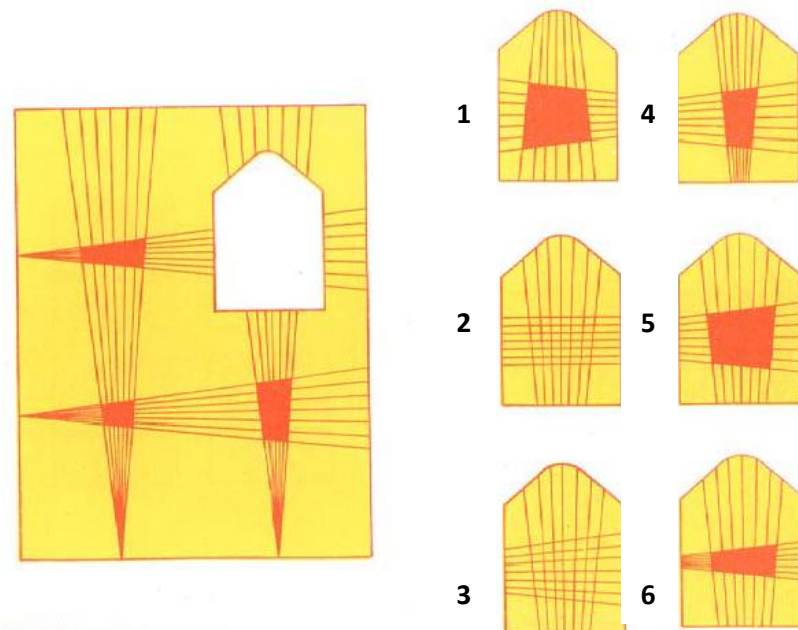
50.



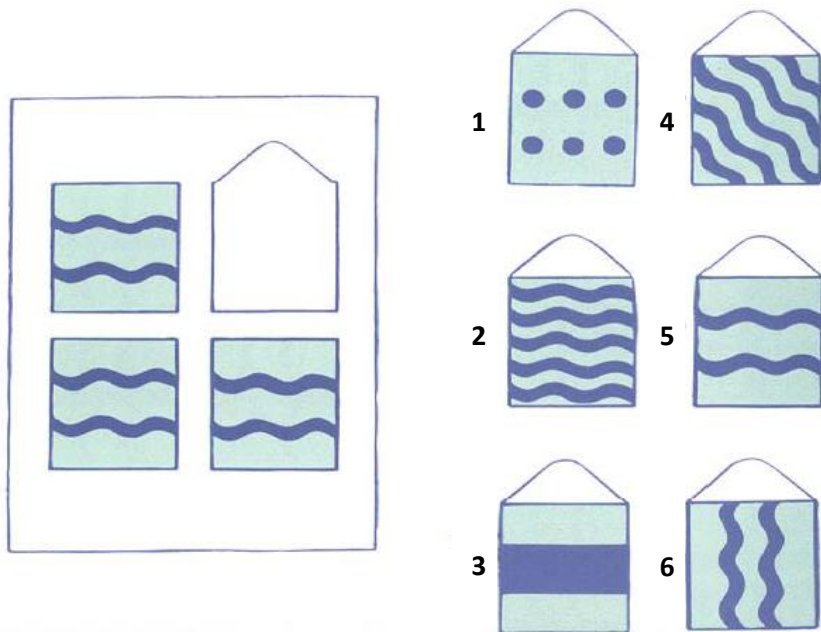
51.



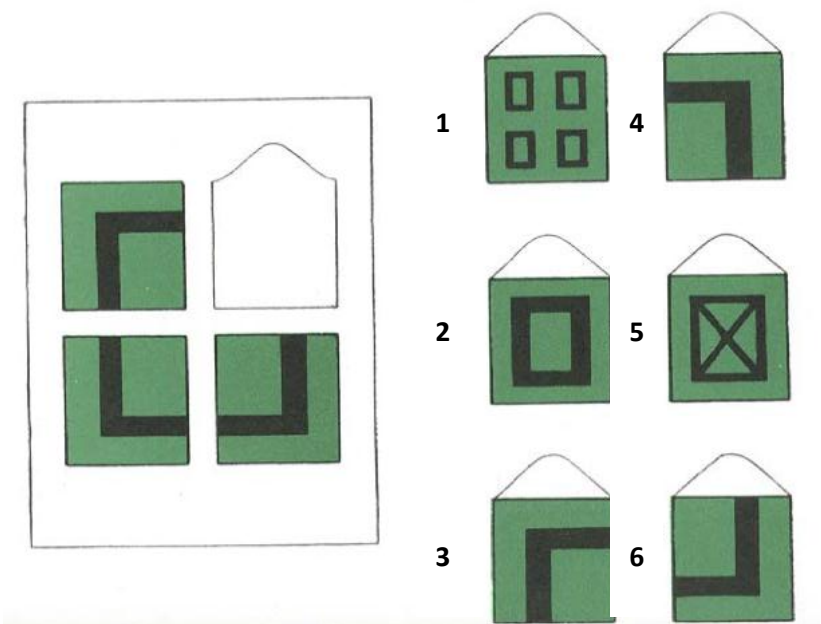
52.



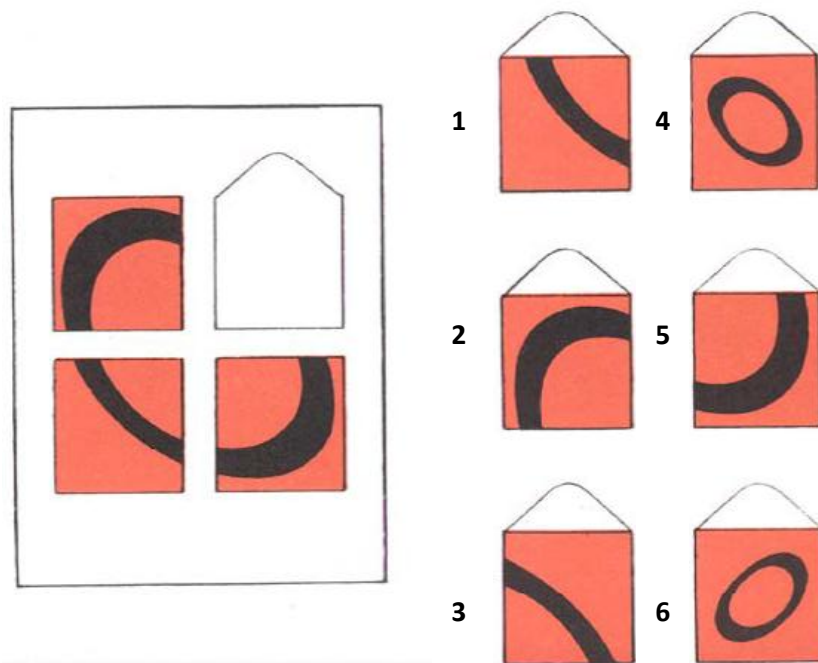
53.



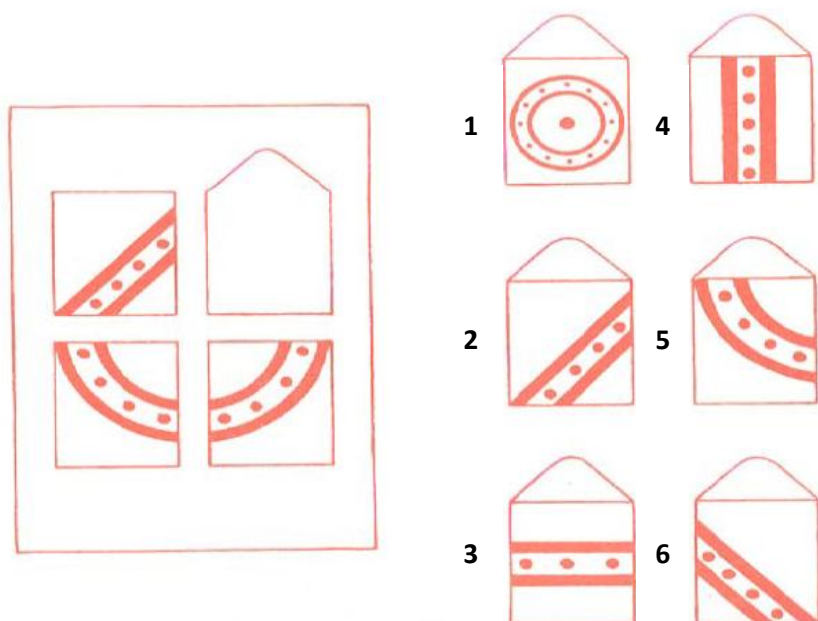
54.





55.



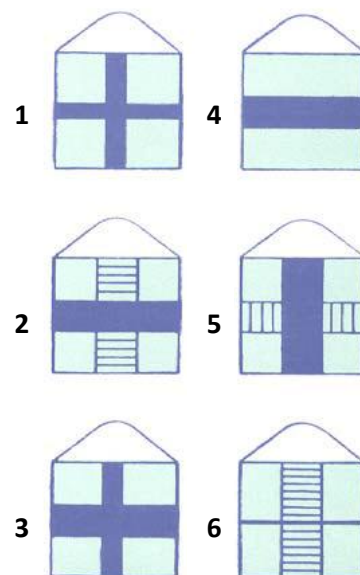
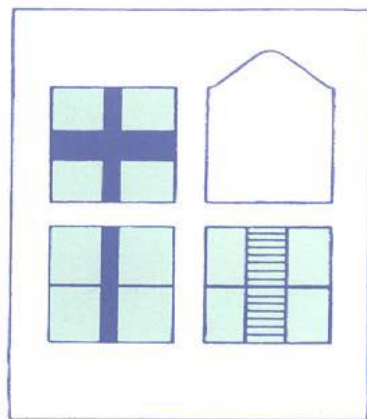
56.



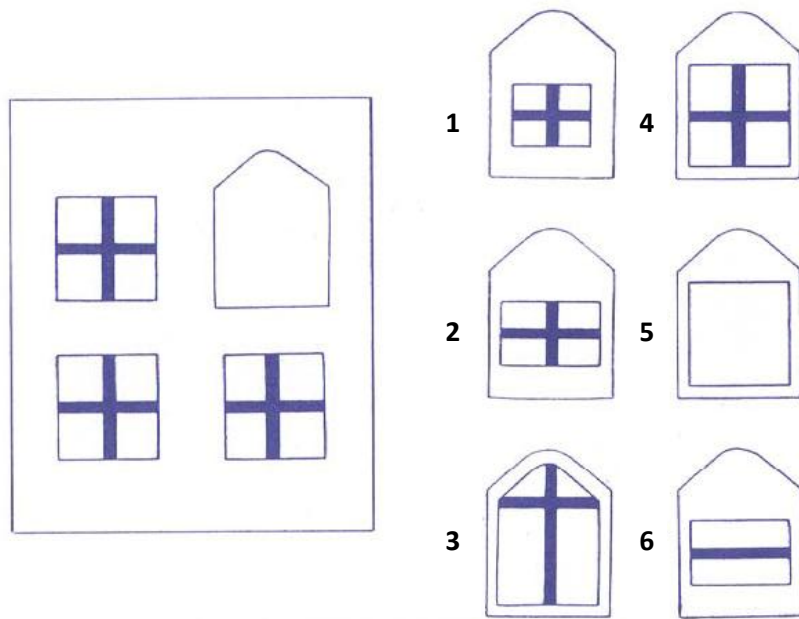
57.



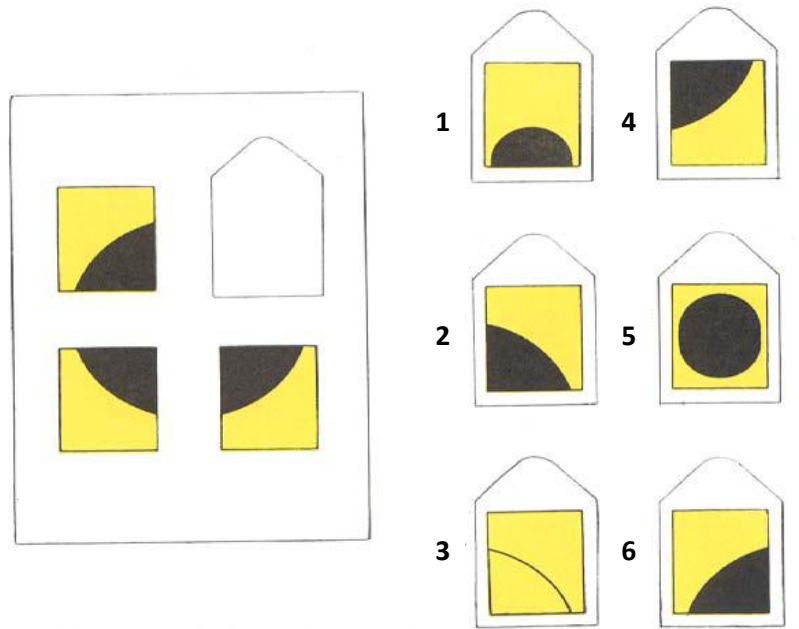
58.



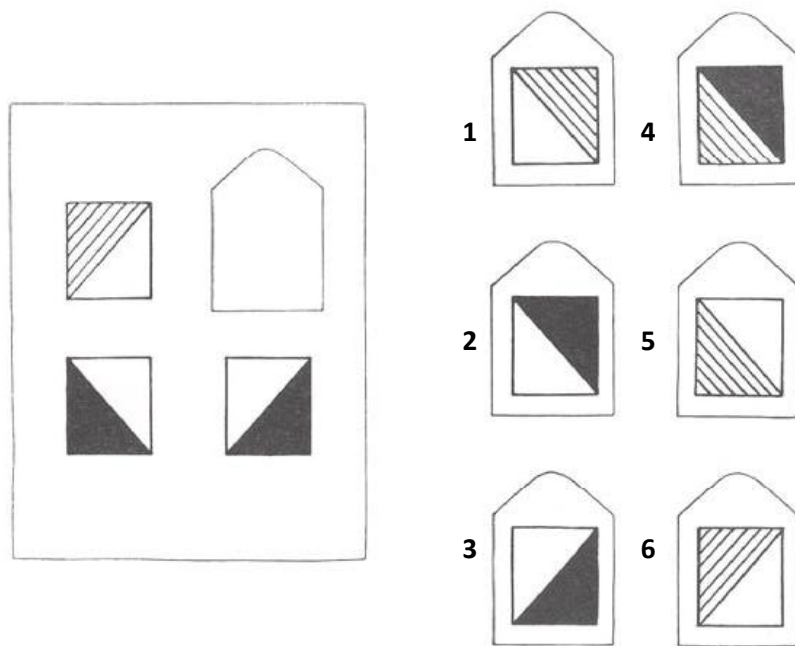
59.



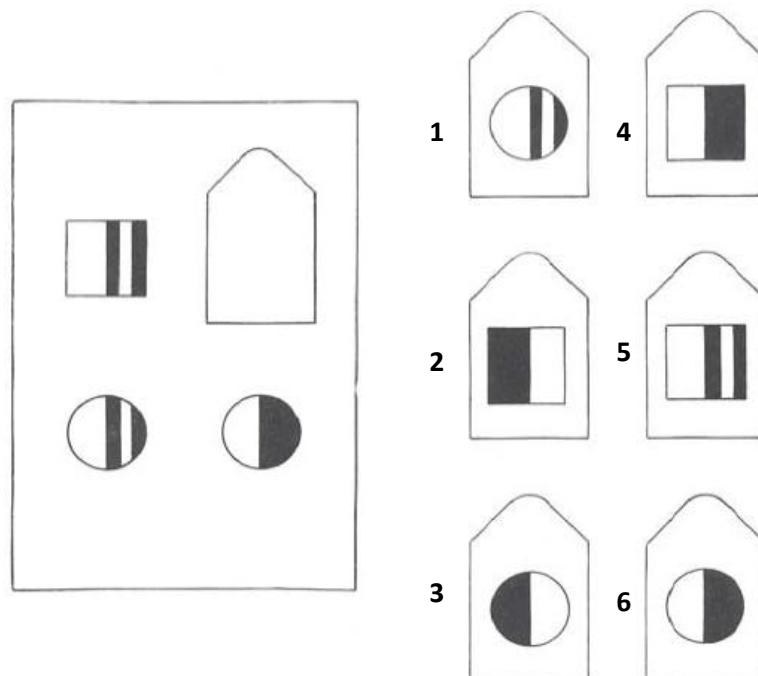
60.



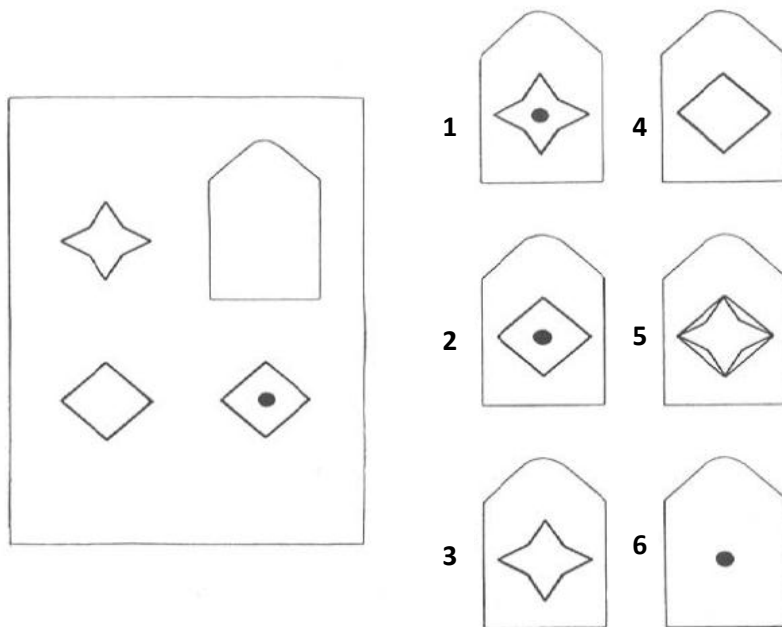
61.



62.



63.



64.

