

8-9 tahun

TES KEMAMPUAN SISWA PAKET B



Survei Endline


Pogram Pendidikan dan Pengembangan
Anak Usia Dini

2013

KEMAMPUAN BAHASA

Pilih gambar yang memiliki huruf awalan yang berbeda

1.



2.

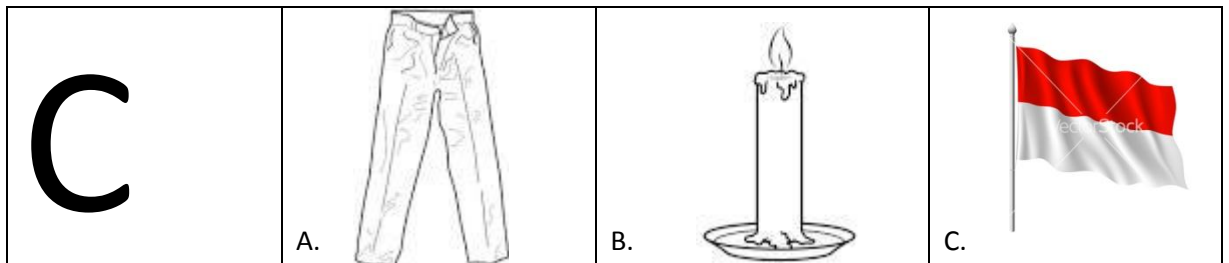


3.

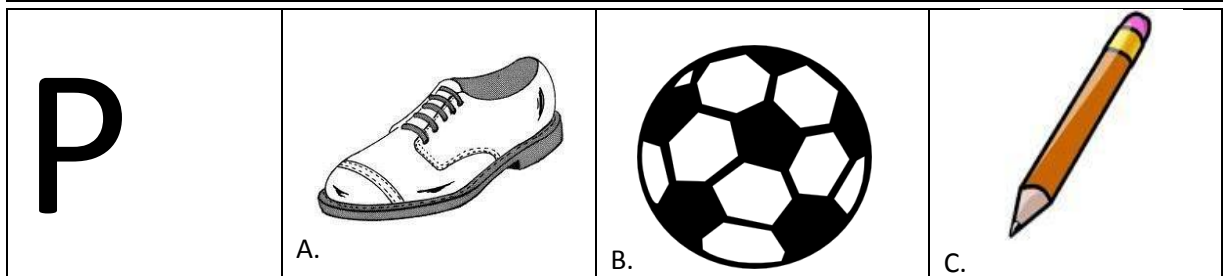


Pilih gambar yang huruf awalnya sama dengan huruf yang ada di kotak sebelah kiri

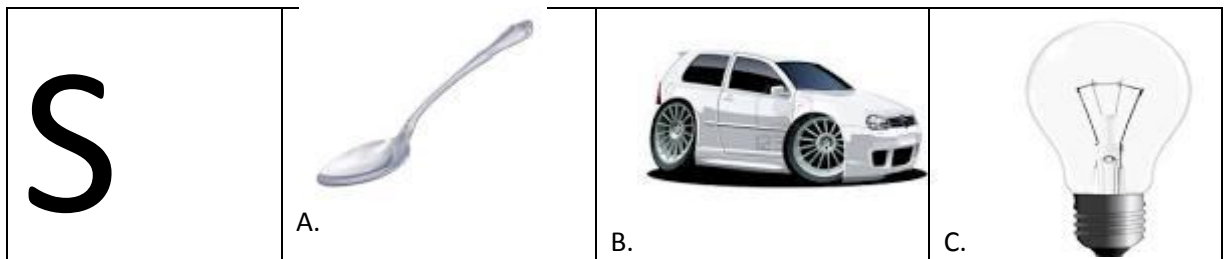
4.



5.



6.



Tuliskan nama benda di bawah ini :

Contoh :



..... **b o l a**

7.



.....

8.



.....

9.



.....

10.



.....

bacalah bacaan berikut, kemudian jawablah soal nomor 11, 12, dan 13!

ibu mengajak ani pergi ke pasar.

ani memakai baju warna kuning.

ibu memakai baju warna merah.

di pasar ibu membeli sayuran seperti wortel, bayam, dan tomat.

ibu juga membeli pisang dan jambu.

sekarang keranjang ibu sudah penuh buah-buahan dan sayuran.

ibu dan ani kemudian pulang.

11. baju warna apa yang dipakai ibu?

- a. merah
- b. kuning
- c. hijau

12. siapa yang memakai baju warna kuning?

- a. ibu
- b. ani
- c. kakak.

13. apa saja yang dibeli ibu di pasar?

- a. minyak goreng dan buah jeruk.
- b. sayuran dan bumbu masak.
- c. buah-buahan dan sayuran

bacalah bacaan berikut, kemudian jawablah soal nomor 14, 15 dan 16!

mulai sekolah

hari rabu nina mulai sekolah.

nina duduk di kelas satu.

nina berangkat bersama teman.

hati nina merasa senang.

14. kapan nina mulai masuk sekolah?

- a. hari senin
- b. hari selasa
- c. hari rabu

15. siapa yang duduk di kelas satu?

- a. nina
- b. nani
- c. nana

16. bagaimana perasaan nina waktu berangkat sekolah?

- a. sedih
- b. senang
- c. kecewa

17. anto sedang ... di kamar mandi.

- a. berdiri
- b. main
- c. mandi



bacalah bacaan berikut, kemudian jawablah soal nomor 18 sampai dengan 21 !

desa bibi

bibi tinggal di desa.

taruna nama desa bibi.

desa bibi udaranya sejuk.

bibi menanam ubi pada pagi hari.

susan dan deni juga tinggal di desa.

di desa tidak banyak mobil.

di desa banyak delman.

18. di mana bibi tinggal?

- a. di kota
- b. di desa
- c. di hutan

19. apa yang ditanam bibi?

- a. rumput
- b. ubi
- c. bunga

20. kapan bibi menanam ubi?

- a. pagi hari
- b. siang hari
- c. sore hari



21. bagaimana udara di desa bibi?

- a. sejuk
- b. panas
- c. hangat

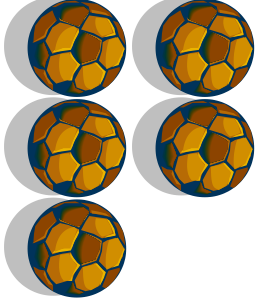

MATEMATIKA

Hitunglah penjumlahan seperti contoh berikut ini



Contoh :

	+		=	3
---	---	---	---	---



22.

	+		=	_____
---	---	--	---	-------



23.

	+		=	_____
---	---	--	---	-------

24.



	+		=	_____
---	---	--	---	-------

25.



	+		=	_____
---	---	--	---	-------

Hitunglah pengurangan seperti contoh berikut ini



contoh :

	<div style="border: 1px solid black; width: 40px; height: 40px; display: flex; align-items: center; justify-content: center;">-</div>		<div style="border: 1px solid black; width: 40px; height: 40px; display: flex; align-items: center; justify-content: center;">=</div>	<div style="border-bottom: 1px solid black; width: 40px; display: inline-block;">4</div>
---	---	--	---	--



26.

	<div style="border: 1px solid black; width: 40px; height: 40px; display: flex; align-items: center; justify-content: center;">-</div>		<div style="border: 1px solid black; width: 40px; height: 40px; display: flex; align-items: center; justify-content: center;">=</div>	<div style="border-bottom: 1px solid black; width: 40px; display: inline-block;"></div>
---	---	--	---	---



27.

	<div style="border: 1px solid black; width: 40px; height: 40px; display: flex; align-items: center; justify-content: center;">-</div>		<div style="border: 1px solid black; width: 40px; height: 40px; display: flex; align-items: center; justify-content: center;">=</div>	<div style="border-bottom: 1px solid black; width: 40px; display: inline-block;"></div>
--	---	---	---	---

28.

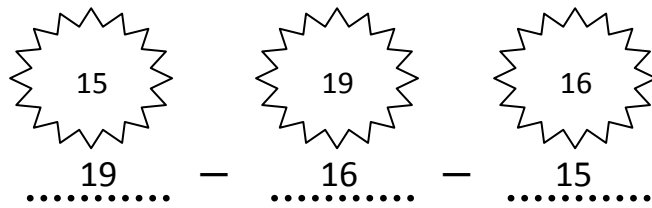
	<div style="border: 1px solid black; width: 40px; height: 40px; display: flex; align-items: center; justify-content: center;">-</div>		<div style="border: 1px solid black; width: 40px; height: 40px; display: flex; align-items: center; justify-content: center;">=</div>	<div style="border-bottom: 1px solid black; width: 40px; display: inline-block;"></div>
---	---	--	---	---

29.


	<div style="border: 1px solid black; width: 40px; height: 40px; display: flex; align-items: center; justify-content: center;">-</div>		<div style="border: 1px solid black; width: 40px; height: 40px; display: flex; align-items: center; justify-content: center;">=</div>	<div style="border-bottom: 1px solid black; width: 40px; display: inline-block;"></div>
---	---	--	---	---

Urutkan angka dalam gambar dimulai dari angka yang paling besar


Contoh :



30.

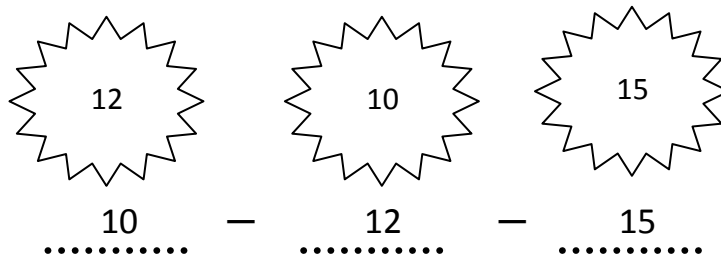


31.




Urutkan angka di dalam gambar dimulai dari angka yang paling kecil


Contoh :




32.



33.



34. perhatikan gambar!



manakah urutan bilangan dari yang terkecil ke yang terbesar?

- a. 32 , 23 , 13
- b. 13 , 23 , 32
- c. 13 , 32 , 23

35. lambang bilangan **tujuh belas** adalah

- a. 17
- b. 27
- c. 71

36. berapakah 17 dikurang 2?

- a. 19
- b. 15
- c. 5

37. hasil dari 9 ditambah 11 adalah

- a. 20
- b. 19
- c. 10

38. nina mempunyai 10 pensil.
2 pensilnya diberikan kepada budi.
3 pensilnya lagi diberikan kepada wati.
banyak pensil nina sekarang ada

- a. 5 buah
- b. 7 buah
- c. 8 buah

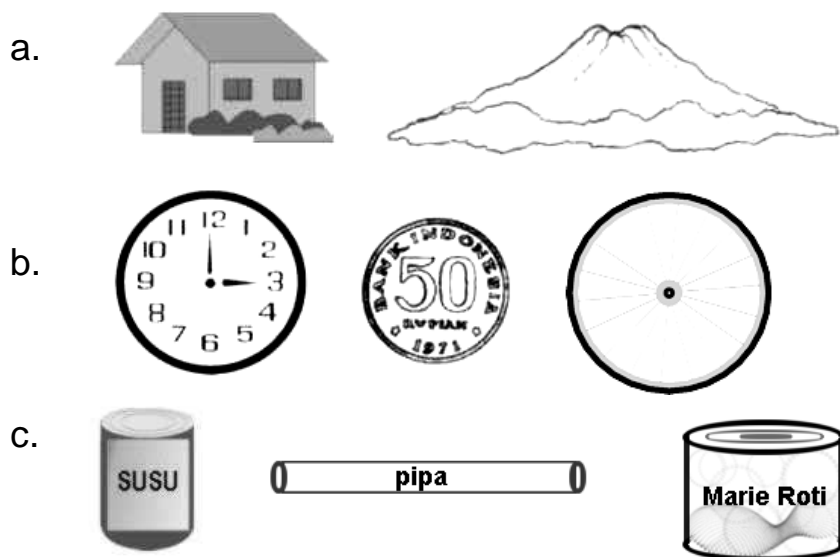
39. ayah mempunyai 5 jeruk. ayah membeli lagi 10 jeruk.
berapa banyak jeruk ayah?

- a. 5 jeruk
- b. 10 jeruk
- c. 15 jeruk

40. budi mempunyai tiga belas kelereng.
kakak budi memberi enam kelereng.
berapa jumlah kelereng budi sekarang?

- a. 7 buah
- b. 13 buah
- c. 19 buah

41. benda-benda di bawah ini yang berbentuk tabung adalah

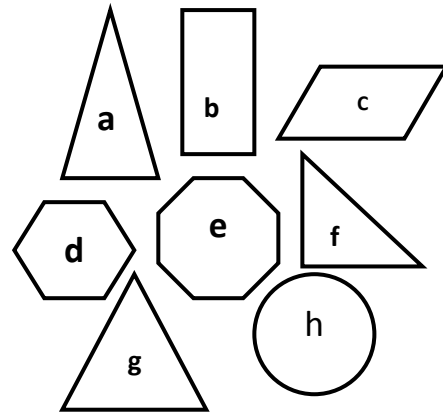


42. hasil dari $21 + 23 = \dots$


- a. 54
- b. 44
- c. 34

43. perhatikan gambar berikut!
manakah bangun datar yang namanya segitiga?

- a. a , e, dan h
- b. a , f, dan g
- c. b , c, dan d



44. perhatikan gambar berikut!



manakah benda dalam gambar yang lebih berat dari bola?

- a. sepeda
- b. kacamata
- c. peniti

45. di danau terdapat 47 ekor bebek sedang berenang.
beberapa ekor bebek pergi dari danau.
yang tersisa di danau 23 ekor bebek.
berapa banyak bebek yang pergi dari danau?

- a. 24 ekor bebek
- b. 20 ekor bebek
- c. 14 ekor bebek

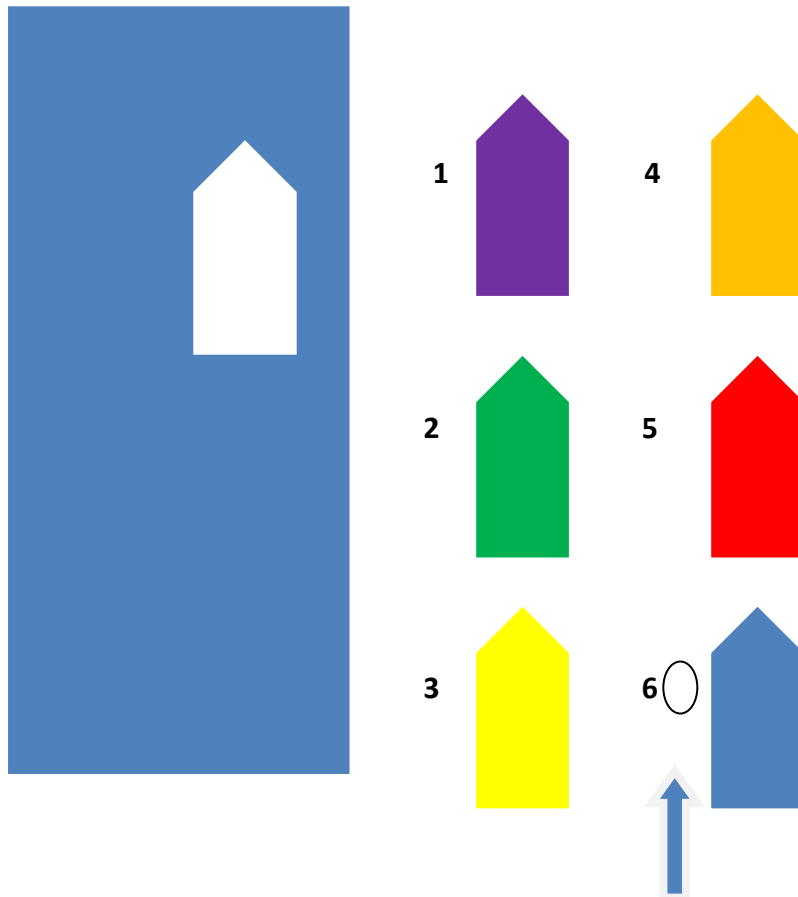
46. ayah tiba di rumah pada hari kamis.
empat hari lagi ayah pergi tugas ke bali.
ayah pergi tugas ke bali pada hari

- a. minggu
- b. senin
- c. selasa

Ravens Test

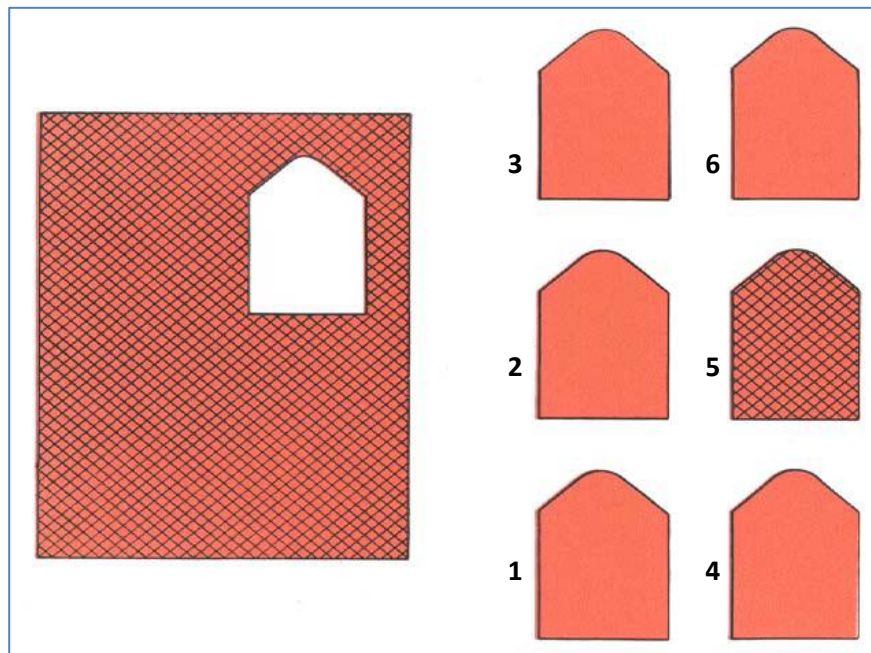
Pilih satu bentuk yang tepat untuk melengkapi gambar seperti dalam contoh gambar di bawah.

Contoh :

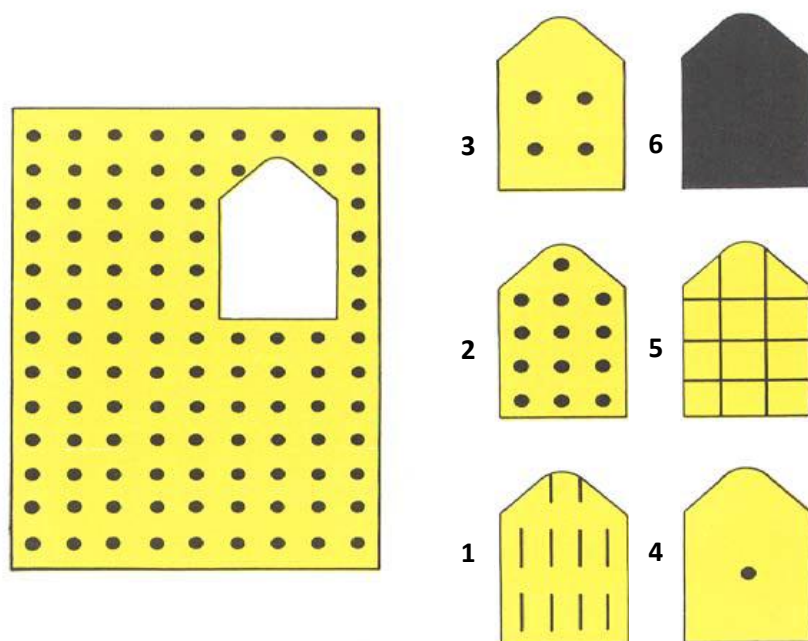


47.


ra



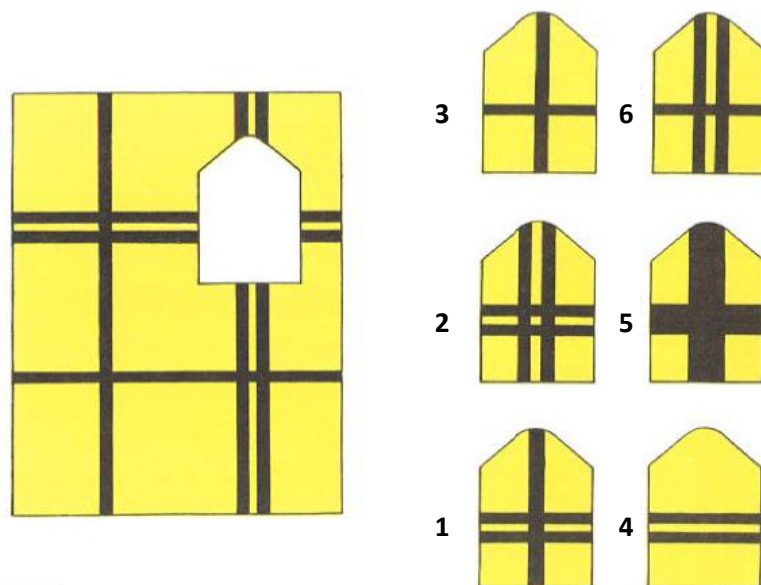
48.



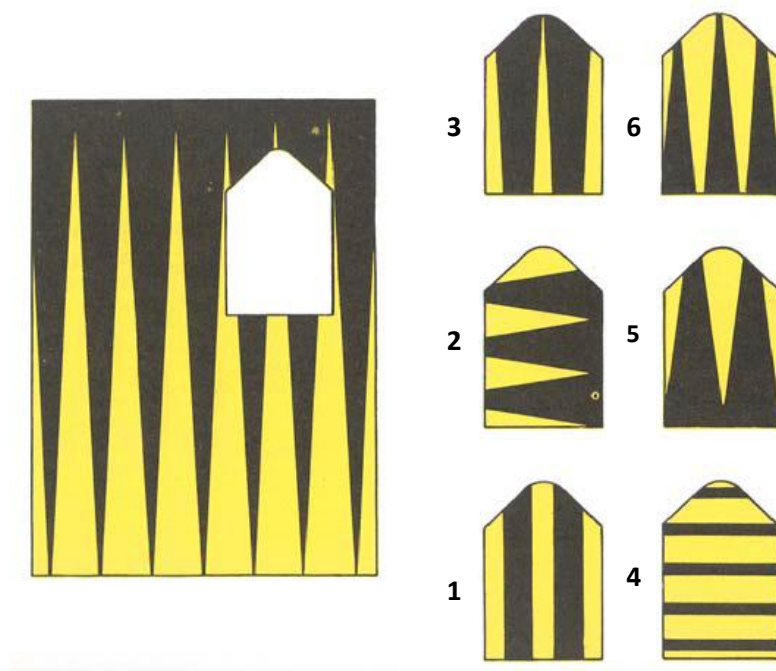
49.



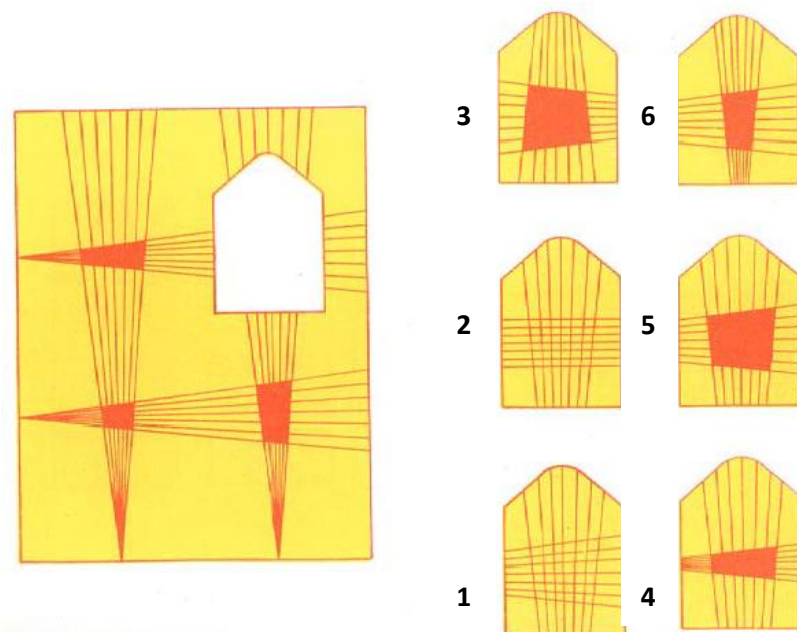
50.



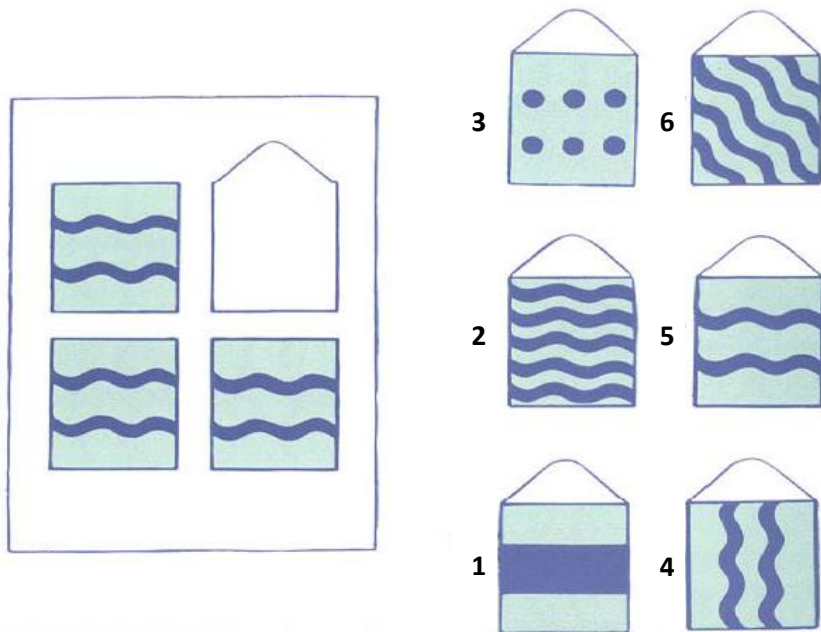
51.



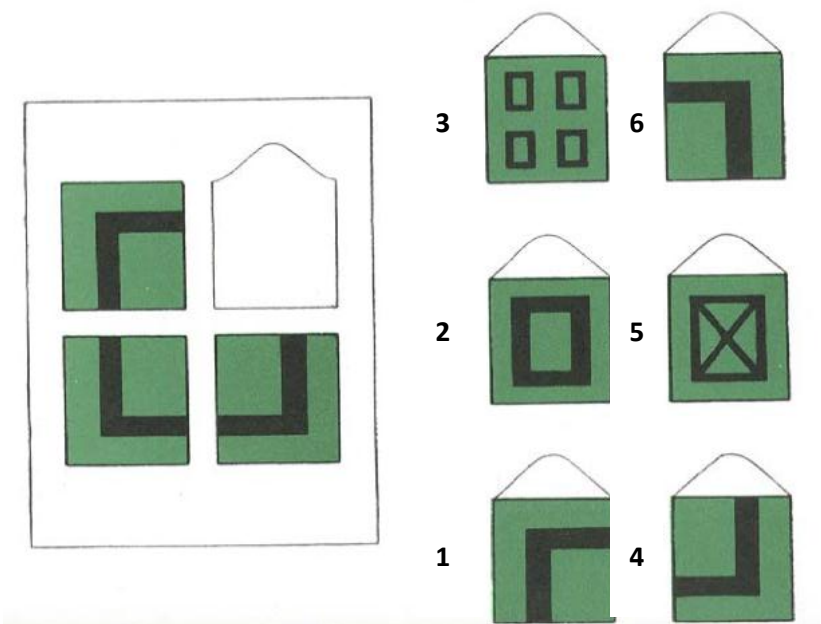
52.



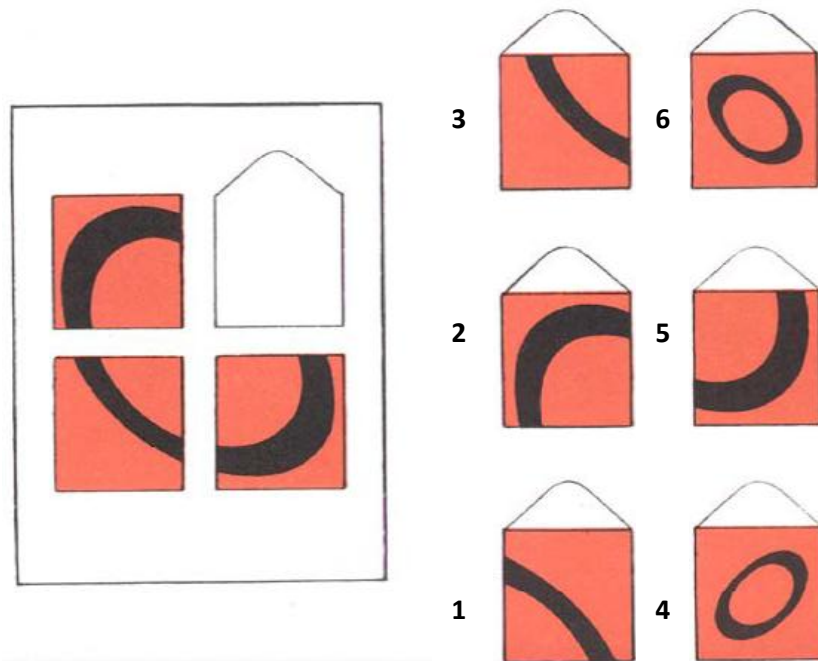
53.



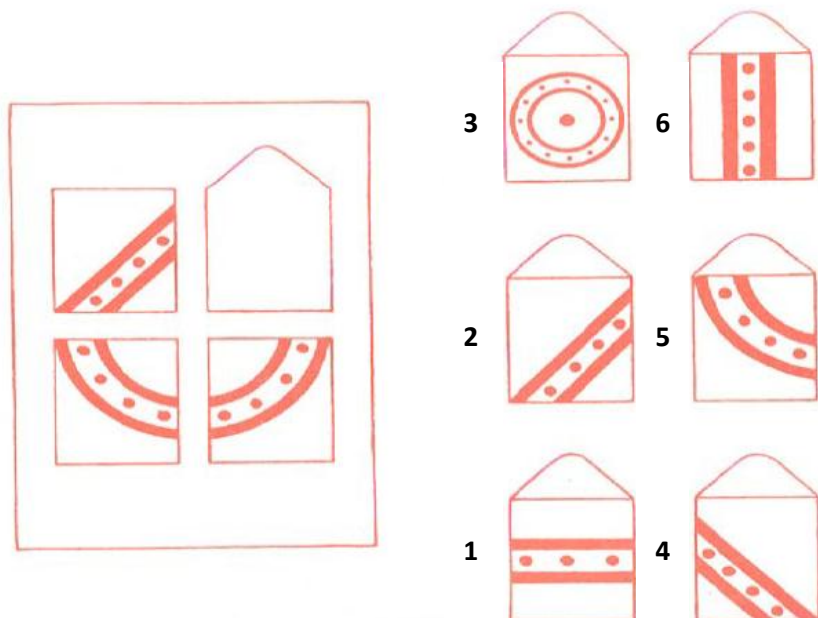
54.





55.



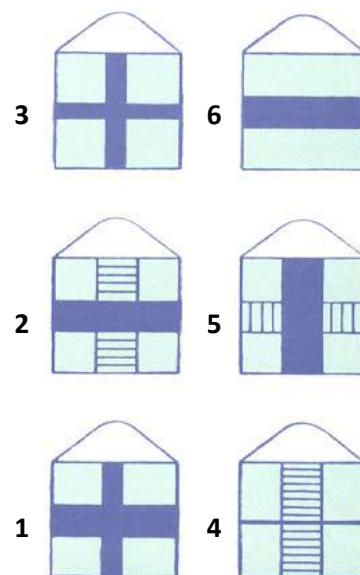
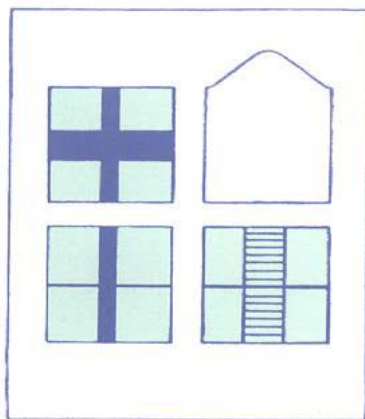
56.



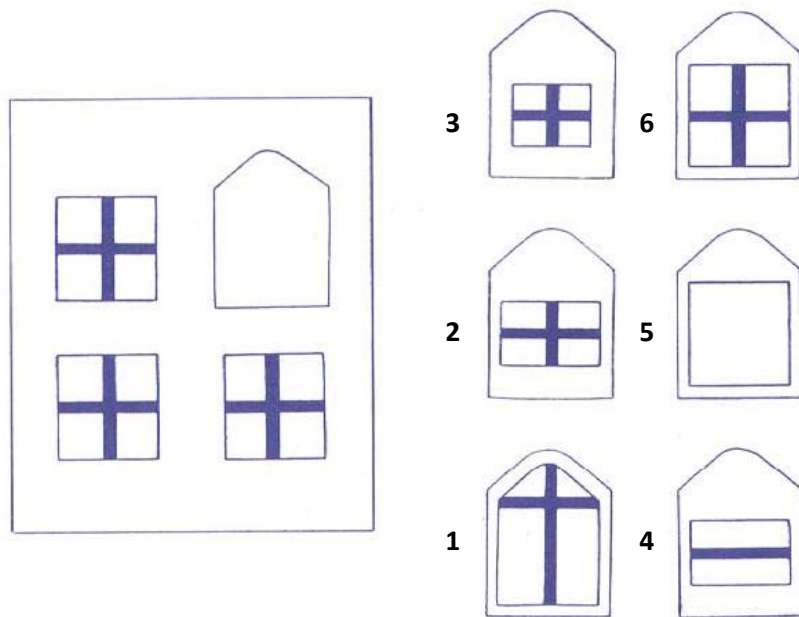
57.



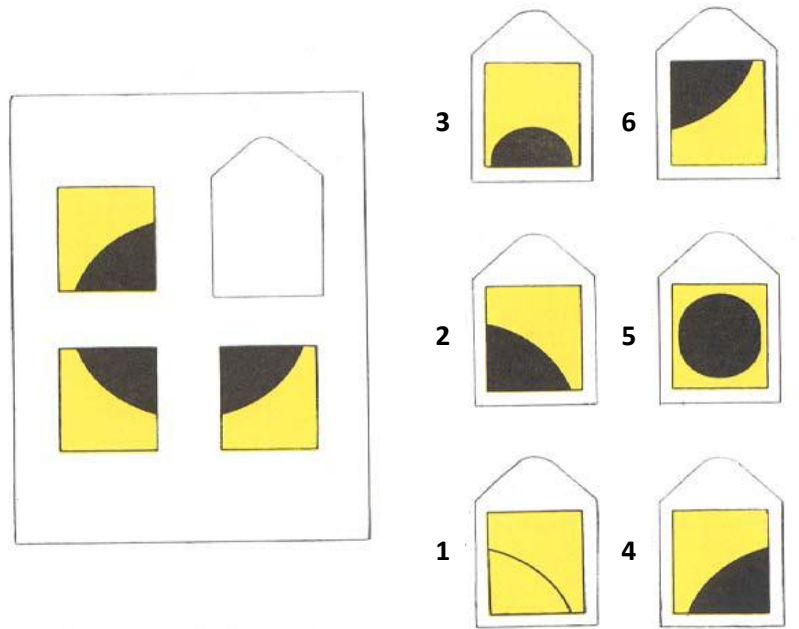
58.



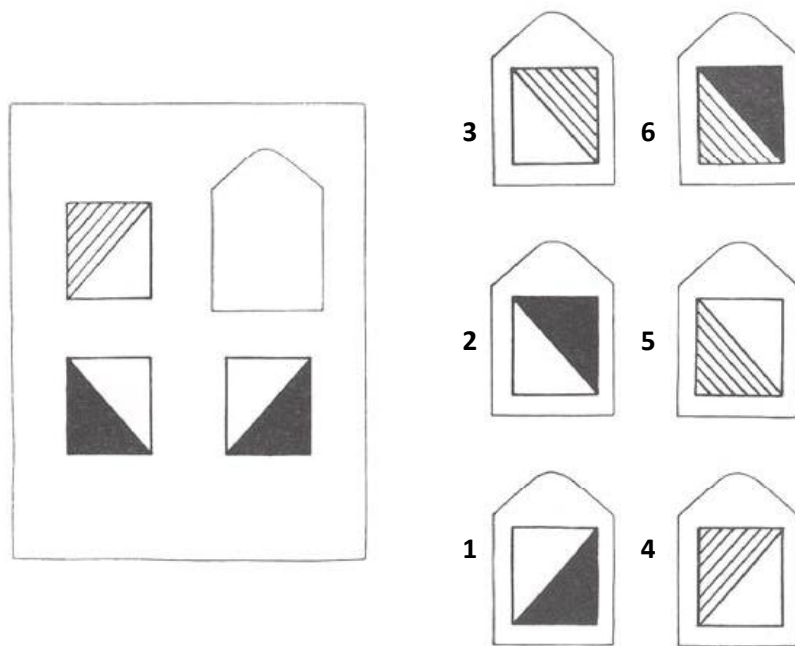
59.



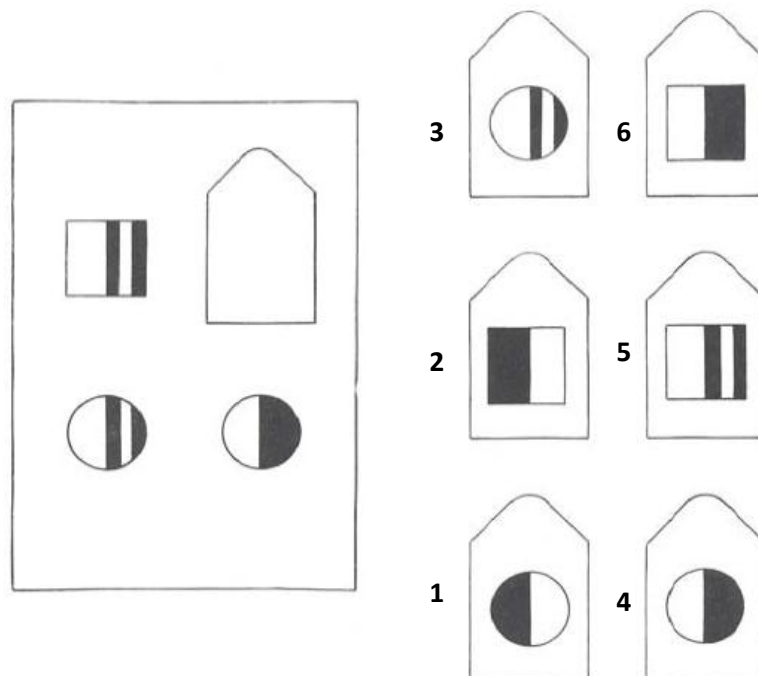
60.



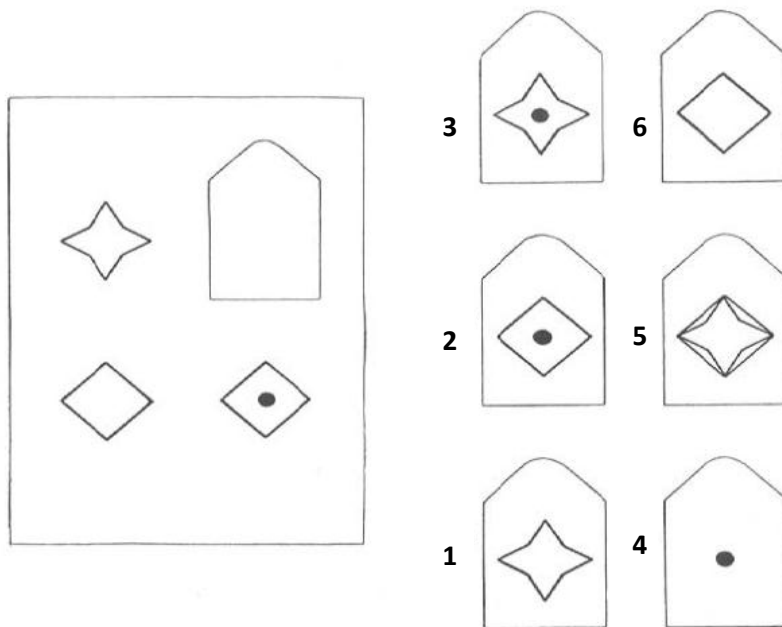
61.



62.



63.



64.

